



MUNICÍPIO DE SÃO BERNARDINO

Secretaria de Educação, Cultura e Esportes

Núcleo Escolar Aldino Léo Scheid

nucleoaldinoleoscheidsaobernardino@gmail.com (49) 36540269



ATIVIDADES REMOTAS

PROFESSOR(a): MAIARA SCHNEIDER E NEUSA BORGES

ALUNO(a)

ANO: 4ºANO MATUTINO

DATA : 21 DE MARÇO A 02 DE ABRIL DE 2021



MUNICÍPIO DE SÃO BERNARDINO

Secretaria de Educação, Cultura e Esportes
Núcleo Escolar Aldino Léo Scheid
nucleoaldinoleoscheidsaobernardino@gmail.com (49) 36540269



PÁSCOA É VIDA NOVA!




PÁSCOA É...

ISABEL CRISTINA SILVEIRA SOARES

A PÁSCOA CHEGOU!

O GIRASSOL SE VOLTOU

QUANDO O CORDEIRO AVISOU.



PÁSCOA É LUZ!

A VELA SE INCLINOU

QUANDO JESUS RESSUSCITOU.



PÁSCOA É ALEGRIA!

O SINO SOOU

E NOVA VIDA ANUNCIOU.

PÁSCOA É PARTILHA!

JESUS MULTIPLICOU

E SEU AMOR SE ESPALHOU





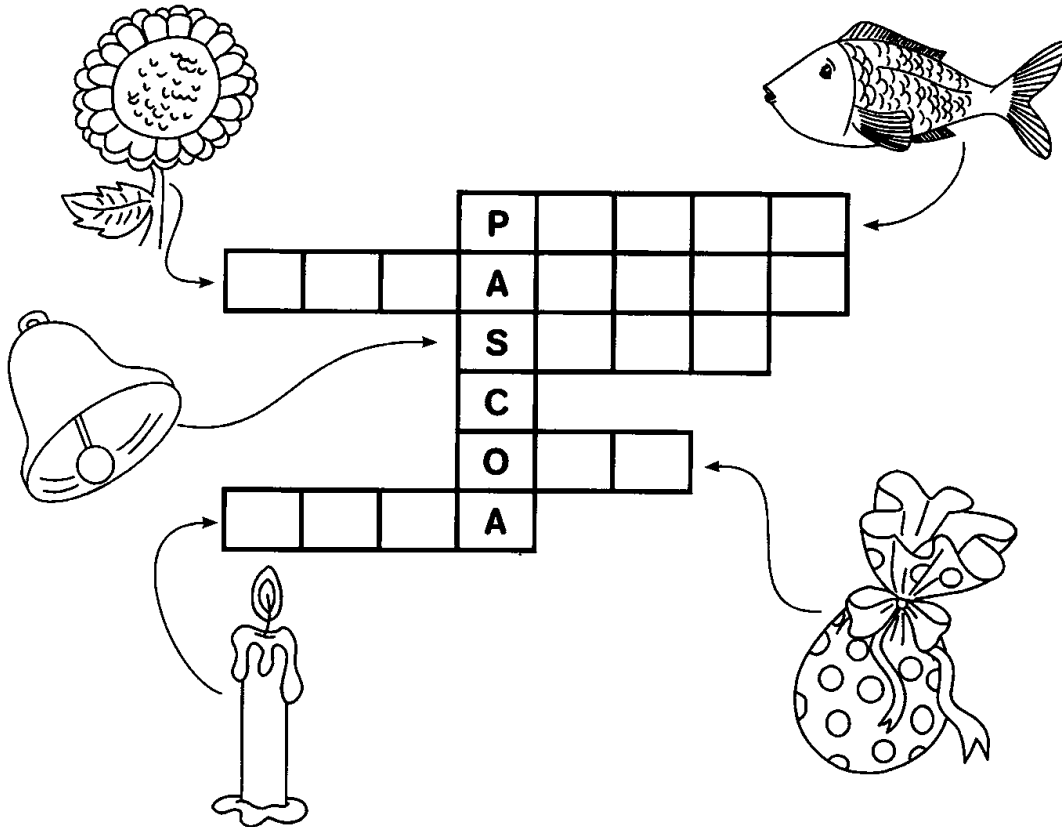
MUNICÍPIO DE SÃO BERNARDINO

Secretaria de Educação, Cultura e Esportes
Núcleo Escolar Aldino Léo Scheid

nucleoaldinoleoscheidsaobernardino@gmail.com (49) 36540269




CRUZADINHA DOS SÍMBOLOS DA PÁScoa!




DESENHE OUTROS SÍMBOLOS DA PÁScoa:


TRIGO



CORDEIRO



PÃO





MUNICÍPIO DE SÃO BERNARDINO

Secretaria de Educação, Cultura e Esportes

Núcleo Escolar Aldino Léo Scheid

nucleoaldinoleoscheidsaobernardino@gmail.com (49) 36540269



Mistura de Alegria

CAÇA - PALAVRAS_ PÁSCOA



- *COELHINHO
- *CORDEIRO
- *VELA
- *OVO
- *LUA
- *TRIGO
- *GIRASSOL
- *SINO
- *ALEGRIA
- *PEIXE
- *RESSURREIÇÃO
- *VINHO
- *QUARESMA
- *PÃO
- *ESPERANÇA

R E S S U R R E I Ç Ã O N J K S A P ã O
H Y T E S P E R A N Ç A Ç P Y T R W Q U
Z A C O R D E I R O S J K O E V R X P T
Y C O E L H I N H O I O S C V B K G H I
F R P T R I G O P T R E Q U A R E S M A
G H P R I P E I X E R E W Z B V N M I O
G I R A S S O L I O S I O V I N H O A I
Q I R W P R T H J L S V C A L E G R I A
X K J O I V E L A F E S S O R M E N T Y
B R W S I N O T Y C H B I W Z T U V A P
G X P R U W Z O V O I M C R T Ç I Z K W

www.misturadealegria.blogspot.com.br



MUNICÍPIO DE SÃO BERNARDINO

Secretaria de Educação, Cultura e Esportes
Núcleo Escolar Aldino Léo Scheid
nucleoaldinoleoscheidsaobernardino@gmail.com (49) 36540269



1. PINTE O QUADRINHO QUE MOSTRA O NÚMERO DE OVOS QUE APARECEM NA IMAGEM

 4 5 3

2. PINTE A LETRA INICIAL DO NOME DO PERSONAGEM QUE ESTÁ COMENDO O OVO

 P C D

3. OBSERVE A PALAVRA ABAIXO E RESPONDA:

PÁSCOA

Nº DE LETRAS _____

Nº DE VOGAIS _____

Nº DE CONSOANTES _____



MUNICÍPIO DE SÃO BERNARDINO

Secretaria de Educação, Cultura e Esportes
Núcleo Escolar Aldino Léo Scheid

nucleoaldinoleoscheidsaobernardino@gmail.com (49) 36540269



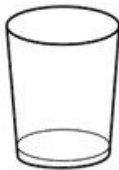
ESCREVA O NOME DE CADA FIGURA:































MUNICÍPIO DE SÃO BERNARDINO

Secretaria de Educação, Cultura e Esportes
Núcleo Escolar Aldino Léo Scheid
nucleoaldinoleoscheidsaobernardino@gmail.com (49) 36540269



ESCREVA FRASES SOBRE AS IMAGENS A SEGUIR.





MUNICÍPIO DE SÃO BERNARDINO

Secretaria de Educação, Cultura e Esportes
Núcleo Escolar Aldino Léo Scheid

nucleoaldinoleoscheidsaobernardino@gmail.com (49) 36540269



MATEMÁTICA DA PÁScoa



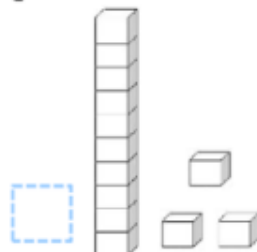
LÍVIA ESTÁ
PROCURANDO OS
OVOS QUE SUA MÃE
ESCONDEU NO
JARDIM.

1 - QUANTOS OVOS
ELA ENCONTROU?

2 - QUANTOS OVOS
AINDA ESTÃO
ESCONDIDOS?

3 - QUANTOS OVOS AO TODO?

4 - MARQUE A OPÇÃO QUE REPRESENTA A QUANTIDADE
DE OVOS.





MUNICÍPIO DE SÃO BERNARDINO

Secretaria de Educação, Cultura e Esportes
Núcleo Escolar Aldino Léo Scheid

nucleoaldinoleoscheidsaobernardino@gmail.com (49) 36540269



MATEMÁTICA DA PÁSCOA

- COMPLETE A SEQUÊNCIA.



→ **10 UNIDADES CORRESPONDE A 1 DEZENA.**

- NA ATIVIDADE ACIMA TEM **1 DEZENA** DE _____.

- CIRCULE ABAIXO **1 DEZENA** DE OVOS.



- QUANTAS UNIDADES DE OVOS SOBRARAM?



MUNICÍPIO DE SÃO BERNARDINO


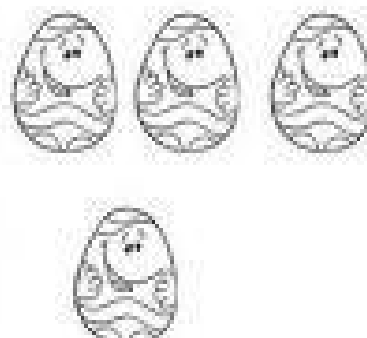


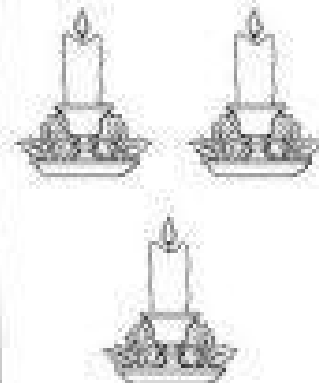

Secretaria de Educação, Cultura e Esportes
Núcleo Escolar Aldino Léo Scheid

nucleoaldinoleoscheidsaobernardino@gmail.com (49) 36540269



PÁSCOA

ESCREVA NOS QUADRADINHOS A QUANTIDADE REPRESENTADA EM CADA AGRUPAMENTO.

$1 + 1 = \underline{\quad}$  <input type="text"/>	$3 + 1 = \underline{\quad}$  <input type="text"/>	$3 + 2 + 1 = \underline{\quad}$  <input type="text"/>
$5 + 1 = \underline{\quad}$  <input type="text"/>	$2 + 1 = \underline{\quad}$  <input type="text"/>	$1 + 0 = \underline{\quad}$  <input type="text"/>



MUNICÍPIO DE SÃO BERNARDINO

Secretaria de Educação, Cultura e Esportes
Núcleo Escolar Aldino Léo Scheid
nucleoaldinoleoscheidsaobernardino@gmail.com (49) 36540269




NOME: _____

IDENTIDADE PESSOAL

AS PESSOAS SÃO DIFERENTES UMAS DAS OUTRAS. CADA PESSOA TEM SUAS CARACTERÍSTICAS PRÓPRIAS. PODEMOS SER DIFERENTES NO FORMATO DO CORPO, DOS OLHOS, DO ROSTO, NA COR DOS CABELOS E VÁRIAS OUTRAS COISAS.

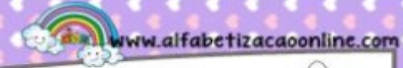
I - PENSE COMO É VOCÊ E FAÇA SEU DESENHO ABAIXO.





MUNICÍPIO DE SÃO BERNARDINO

Secretaria de Educação, Cultura e Esportes
Núcleo Escolar Aldino Léo Scheid
nucleoaldinoleoscheidsaobernardino@gmail.com (49) 36540269




NOME: _____

IDENTIDADE PESSOAL

A CADA ANO COMPLETAMOS MAIS UM ANO DE VIDA NO MESMO MÊS EM QUE NASCEMOS. É ESSE DIA QUE CHAMAMOS DE ANIVERSÁRIO.

1 - VOCÊ VIU QUE BELINHA FEZ 6 ANOS. E VOCÊ, QUANTOS ANOS TEM? DESENHE AS VELINHAS NO BOLO E REGISTRE O NÚMERO.



2 - AGORA COMPLETE.

EU NASCI NO DIA _____ DO MÊS DE _____
DO ANO DE _____