



MUNICÍPIO DE SÃO BERNARDINO
Secretaria de Educação, Cultura e Esportes
Núcleo Escolar Aldino Léo Scheid
nucleoaldinoleoscheidsaobernardino@gmail.com (49) 36540269



PROFESSORA: SANDRA MACHADO



DISCIPLINA: **INFORMÁTICA**

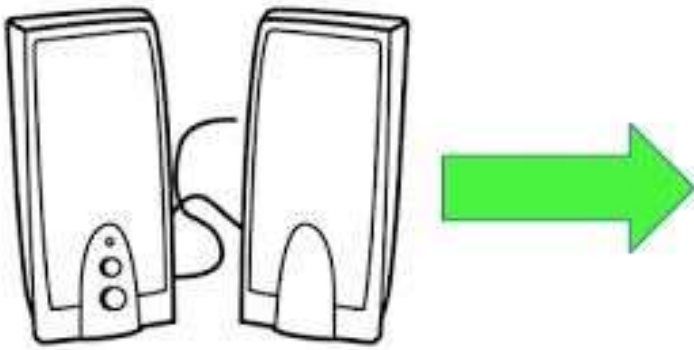
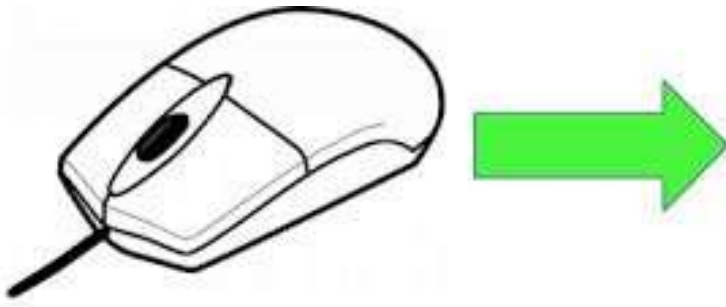
ALUNO: _____

ANO: 2º ANO _____ ENDEREÇO: _____


DATA: 23 DE NOVEMBRO á 07 DE DEZEMBRO.

- 1) ESCREVA OS NOMES DAS PARTES DO COMPUTADOR, E PINTE OS DESENHOS.





2) OBSERVE AS IMAGENS ABAIXO E CIRCULE AQUELAS QUE ESTÃO CORRETAS EM RELAÇÃO AOS CUIDADOS QUE DEVEMOS TER COM O COMPUTADOR.



3) RECORTE AS FIGURAS GEOMÉTRICAS QUE SÃO SEMELHANTES AS PARTES PRINCIPAIS DO COMPUTADOR E FAÇA UM LINDO DESENHO DE CADA PARTE IMPORTANTE QUE COMPÕE O COMPUTADOR.

NA FOLHA EM BRANCO, FAÇA O DESENHO.

