



MUNICÍPIO DE SÃO BERNARDINO

Secretaria de Educação, Cultura e Esportes

Núcleo Escolar Aldino Léo Scheid

nucleoaldinoleoscheidsaobernardino@gmail.com (49) 36540269



APOSTILA 1º ANO

DIA 26 DE OUTUBRO A

6 DE NOVEMBRO

PROFESSORAS: SILMARA W. MOTTER

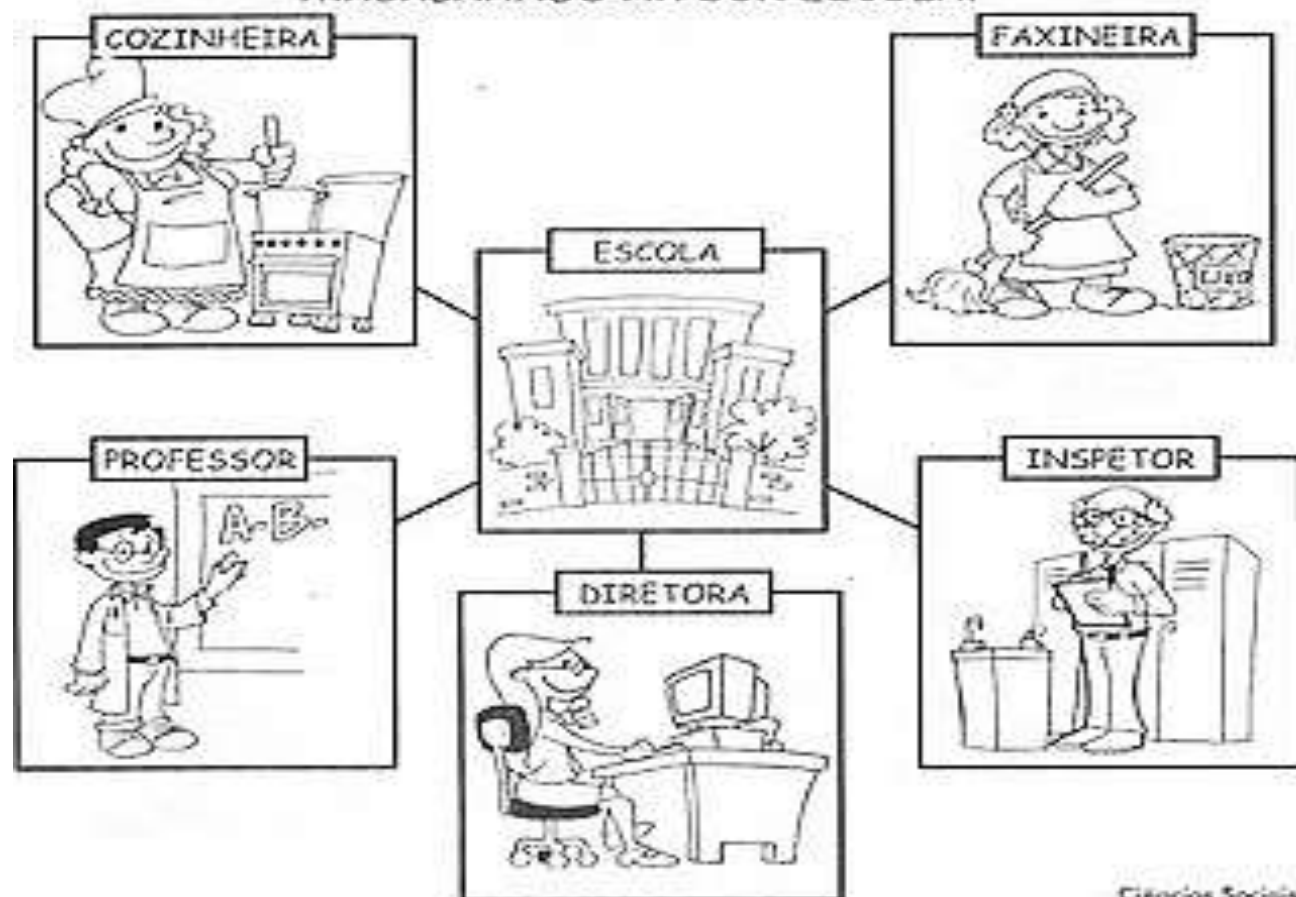
SILVETE D. NEGRI

ALUNO(A):.....

VAMOS RECITAR A POESIA?




VOCÊ JÁ OBSERVOU QUANTAS PESSOAS ESTÃO TRABALHANDO NA SUA ESCOLA?



COMPLETE A CRUZADINHA DAS PROFISSÕES, SEGUINDO AS DICAS:

- 1- CUIDO DOS DENTES.
- 2- CONSTRÓI CASAS.
- 3- FAZ PAES.
- 4- APAGA INCÊNDIOS.
- 5- TRABALHA EM TEATRO, FILME.
- 6- RECOLHE LIXO.
- 7- FAZ DESENHOS.
- 8- PINTA QUADROS.



NUMERE CORRETAMENTE AS PROFISSÕES AOS OBJETOS QUE TÊM A VER COM SEU TRABALHO:

1

PROFESSOR

2

SORVETEIRO

3

COSTUREIRA

4

CANTOR



GELO



CADERNO



TECIDO



MICROFONE



CANETA



MODELO



GIZ



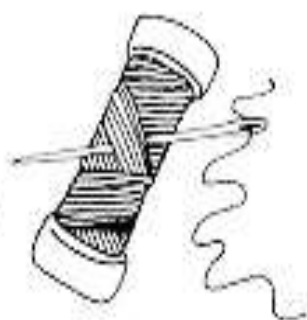
REFRESCO



MELODIA



MOLDE



SABOR



LINHA



MÚSICA



ALUNO



ROUPA



ESCOLA



SORVETE



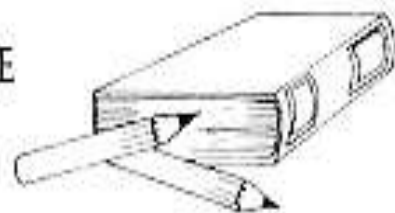
CANÇÃO



TESOURA



QUADRO




ESCREVA

ONDE ESTAS PESSOAS TRABALHAM?



O QUE VOCÊ QUER SER QUANDO CRESCER?

PESQUISE EM JORNAIS E REVISTAS AS PROFISSÕES QUE VOCÊ QUER SER QUANDO CRESCER. RECORTE E COLE-AS OU DESENHE:

A large rectangular area with a dashed border, intended for students to paste or draw their chosen professions. The border is composed of thick black lines forming a rectangle, with small squares at the corners and midpoints of the sides, indicating where to cut or fold.

- PROCURE NO DIAGRAMA O NOME DE CINCO PROFISSÕES.

P	R	O	F	E	S	S	O	R	A
E	R	I	C	R	E	W	Q	E	R
D	E	N	T	I	S	T	A	D	O
R	C	A	R	T	E	I	R	O	X
E	E	L	O	S	A	X	I	C	A
I	V	E	R	M	E	I	G	A	T
R	E	L	H	A	D	V	K	D	Ç
O	A	R	M	É	D	I	C	O	X

- ESCREVA OS NOMES DAS PROFISSÕES ABAIXO:













QUAL É A MINHA PROFISSÃO ?



PARA CADA LETRA INICIAL DO ALFABETO VOCÊ DEVERÁ ESCREVER
O NOME DE UMA OU MAIS PROFISSÕES:

M

B

D

C

A

E

U

F

O

N

H

I

R

V

L

T

S

X

Q

Z

J





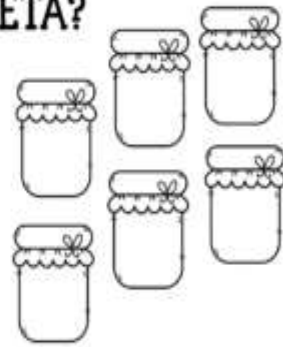
G

P




ATIVIDADES DE MATEMÁTICA - 1º ANO

1. VAMOS CALCULAR E LIGAR A RESPOSTA CORRETA?



Matemática



1 - COMPLETE A SEQUÊNCIA NUMÉRICA ATÉ 30.

1					6				

2 - COMPLETE.

A) O NÚMERO QUE VEM ANTES DO 11 É _____.

B) O NÚMERO QUE ESTÁ ENTRE O 27 E O 29 É _____.

C) O ÚLTIMO NÚMERO DA 1ª LINHA É _____.


D) O 1º NÚMERO DA 3ª LINHA É _____.

E) O NÚMERO QUE VEM DEPOIS DO 19 É _____.

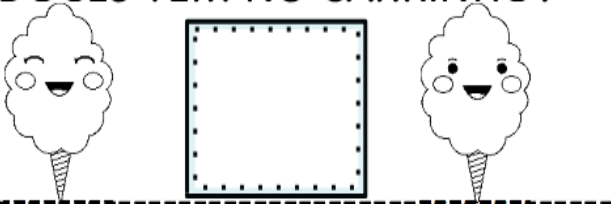
F) ESTA SEQUÊNCIA VAI ATÉ O NÚMERO _____.

MATEMÁTICA

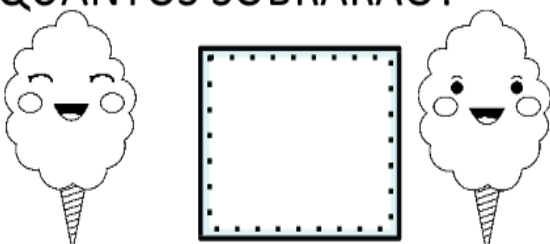
PAULINHA ESTÁ VENDENDO
ALGODÃO-DOCE. OBSERVE A
CENA E RESPONDA.



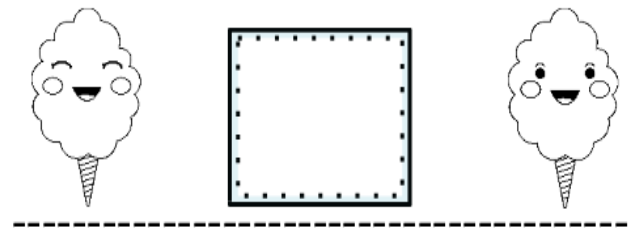
1) QUANTOS ALGODÕES-
DOCES TEM NO CARRINHO?



2) SE PAULINHA VENDER DOIS,
QUANTOS SOBRARÃO?



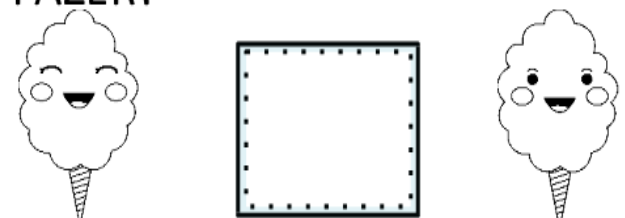
3) PAULINHA IRÁ FAZER MAIS
3 ALGODÕES-DOCES.
QUANTOS FICARÃO?



4) ONTEM, ELA FEZ UMA
DEZENA DE ALGODÃO-DOCE.
QUANTOS FORAM?

REGISTRE COM DESENHOS.

5) SE ELA FIZER DOIS A MENOS
QUE ONTEM, QUANTOS IRÁ
FAZER?



RESOLVA AS ADIÇÕES E PINTE AS RESPOSTAS CORRETAS:

5	6
+2	7
	3

4	8
+4	0
	6

6	2
+4	8
	10

3	5
+2	1
	4

7	6
+3	9
	10

9	10
+3	11
	12

1	2
+1	3
	1

3	4
+0	3
	0

5	8
+1	7
	6

