



MUNICÍPIO DE SÃO BERNARDINO

Secretaria de Educação, Cultura e Esportes

Núcleo Escolar Aldino Léo Scheid

nucleoaldinoleoscheidsaobernardino@gmail.com (49) 36540269



APOSTILA 1º ANO

DIA 28 DE SETEMBRO


A 9 DE OUTUBRO

PROFESSORAS: SILMARA W. MOTTER

SILVETE D. NEGRI

ALUNO(A):.....

ESTAÇÕES DO ANO



PRIMAVERA

HOJE EU ACORDEI
E VI O SOL A BRILHAR
FLORES COLORIDAS,
PASSARINHOS A BAILAR!
É PRIMAVERA
ESTAÇÃO DAS FLORES E
TODAS ELAS COM PERFUME
E MUITAS CORES!



VERÃO

HOJE EU ACORDEI
E VI O SOL A BRILHAR
PENSEI ALEGREMENTE:
UM MERGULHO EU VOU DARI
EU VOU PRO CLUBE
COMEMORAR
ESTE VERÃO
QUE ACABA DE CHEGAR!

OUTONO






HOJE EU ACORDEI
SENTI O VENTO A BALANÇAR
PENSEI JÁ É OUTONO
MINHA CESTA VOU BUSCAR!
JÁ É OUTONO
ESTAÇÃO DAS FRUTAS
E TODAS ELAS
EU QUERO SABOREAR!



INVERNO

HOJE EU ACORDEI
SENTI O FRIO SE APROXIMAR
PENSEI TANTAS CRIANÇAS
ESTÃO SOFRENDOS SEM LARI
JÁ É INVERNO
ESTAÇÃO DO FRIO
VOU ME AQUECER
UM AGASALHO POSSO TER!





MARQUE A OPÇÃO CORRETA E RESPONDA:

• COMO ESTÁ O TEMPO HOJE?



• CIRCULE O MÊS EM QUE ESTAMOS.

JANEIRO

FEVEREIRO

MARÇO

ABRIL

MAIO

JUNHO

JULHO

AGOSTO

SETEMBRO

OUTUBRO

NOVEMBRO

DEZEMBRO

• EM QUAL ESTAÇÃO ESTAMOS? PINTE O QUADRINHO RELACIONADO.

PRIMAVERA

VERÃO

OUTONO



INVERNO



1- LEIA E COMPLETE CORRETAMENTE:

-PRIMAVERA, VERÃO OUTONO E INVERNO SÃO AS QUATRO ESTAÇÕES DO ANO.

-OBSERVE A PAISAGEM EM CADA ESTAÇÃO E ESCREVA O NOME CORRETAMENTE.



2- CIRCULE NA ESTROFE AS PALAVRAS ABAIXO:

OUTONO

FOLHAS

INVERNO


FRIO

DEPOIS VEM O OUTONO
FOLHAS PELO CHÃO
E DEPOIS O INVERNO
UHHHHH, QUE FRIO
NESTA ESTAÇÃO.



3- PINTA A CENA QUE MELHOR ILUSTRA A QUATRINHA ABAIXO:

QUE BELEZA
CHEGOU O VERÃO
COM MUITO SOL,
QUE CALORZÃO.



4- COMPLETE AS FRASE UTILIZANDO AS PALAVRAS ABAIXO:

VERÃO – PRIMAVERA – OUTONO – INVERNO

- A) NO _____ USAMOS ROUPAS MAIS LEVES.
 B) A ESTAÇÃO DAS FLORES É A _____.
 C) O _____ É A ÉPOCA DAS FRUTAS.
 D) QUANDO FAZ MUITO FRIO É PORQUE CHEGOU O _____.

5- NUMERE AS CENAS DE ACORDO COM A ORDEM CERTA.



6- O VERÃO É A ESTAÇÃO MAIS QUENTE DO ANO. VAMOS PROCURAR AS PALAVRAS ABAIXO NO CAÇA PALAVRAS.

SOL SORVETE PISCINA CALOR

S	O	L	A	B	C	D	E
F	G	H	C	A	L	O	R
I	P	I	S	C	I	N	A
S	O	R	V	E	T	E	K

7- FORME FRASES CONFORME CADA DESENHO:









SITUAÇÕES-PROBLEMAS

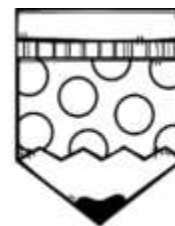
EM UMA CESTA HAVIA 12 OVOS DE PÁSCOA. PAULO COLOCOU MAIS 11 OVOS. QUANTOS OVOS HÁ NA CESTA AGORA?



NO PARQUINHO ESTAVAM 10 CRIANÇAS JOGANDO BRINCANDO. CHEGARAM MAIS 16 CRIANÇAS. QUANTAS CRIANÇAS FICARAM AO TODO?



GABRIEL TINHA 23 LÁPIS DE COR. NUMA SEMANA PERDEU 12 LÁPIS. COM QUANTOS LÁPIS GABRIEL FICOU?



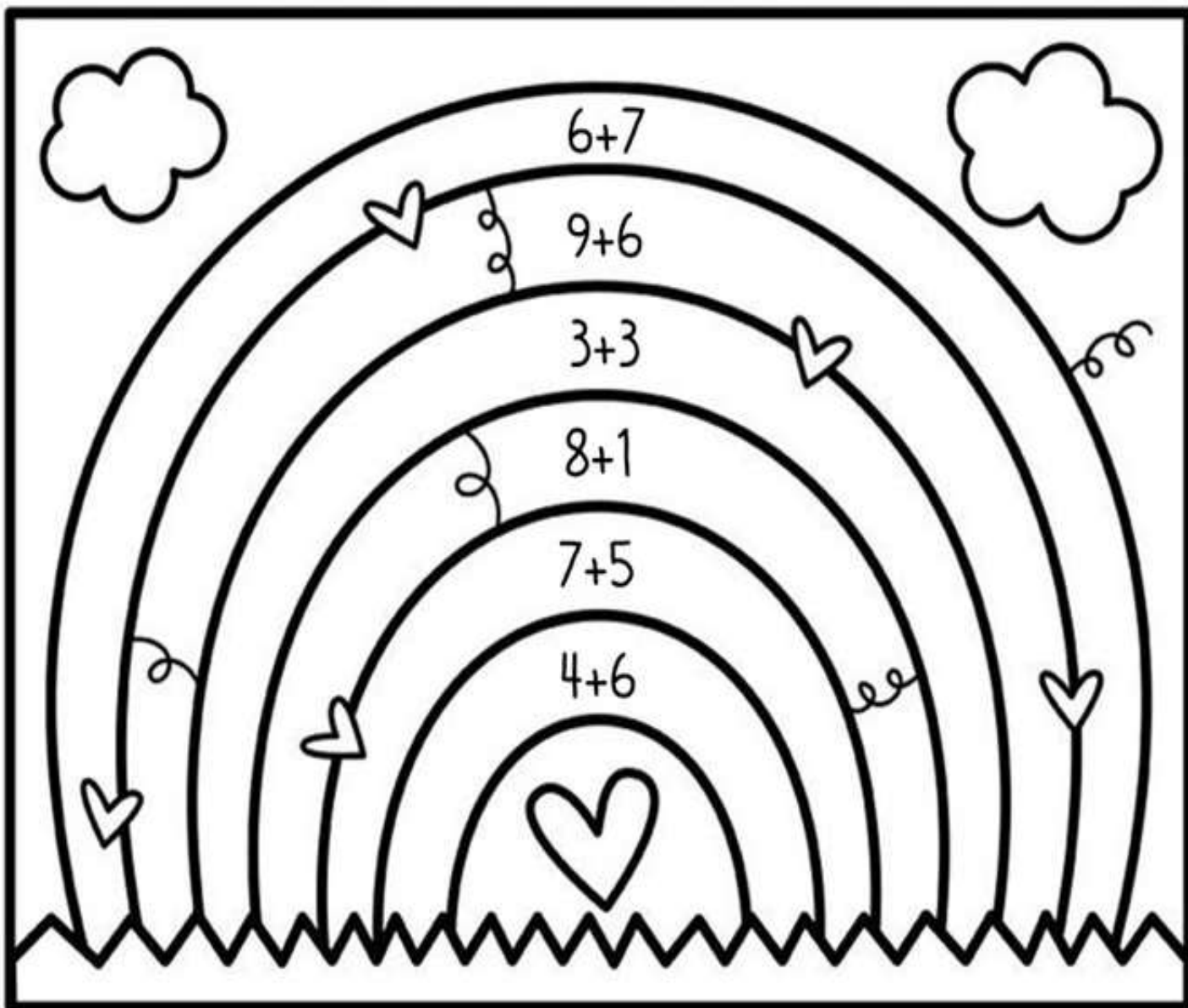
CECÍLIA CONVIDOU OS 27 AMIGUINHOS DE CLASSE PARA O SEU ANIVERSÁRIO. FORAM APENAS 15 COLEGAS. QUANTOS FALTARAM?



PARA O ANIVERSÁRIO DE CECÍLIA, DONA CARLA FEZ ALGUNS DOCES DIFERENTES. ELA FEZ 28 DOCINHOS DE BETERRABA E 31 DE MANDIOCA. QUANTOS DOCINHOS DIFERENTES DONA CARLA FEZ?



RESOLVA AS ADIÇÕES E PINTE CONFORME A LEGENDA:



AMARELO= 6

ROXO=10

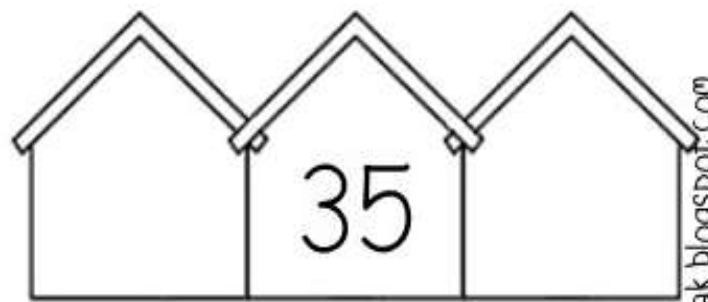
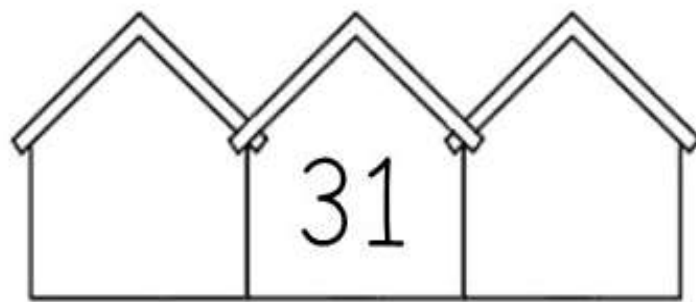
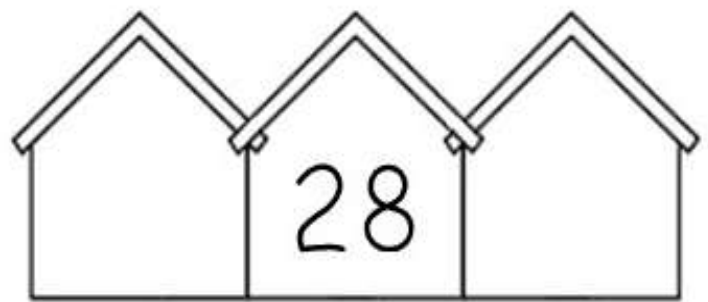
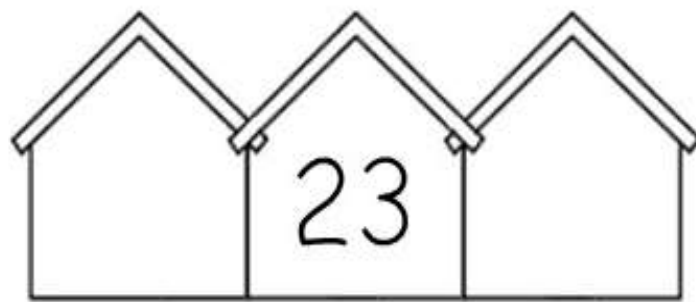
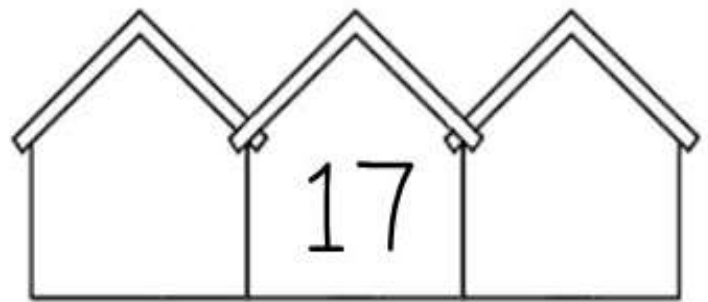
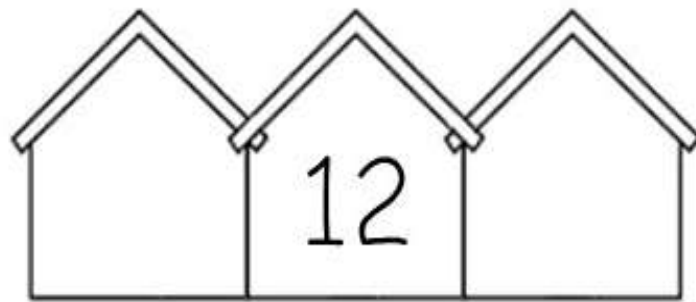

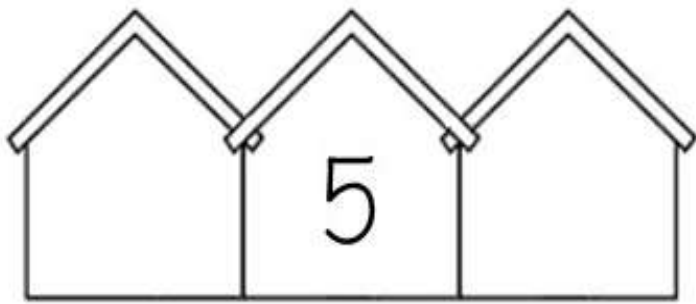
VERMELHO= 13

VERDE= 9

LARANJA=15

AZUL= 12

COMPLETE AS CASINHAS COM OS VIZINHOS DE CADA NÚMERO:



RESOLVA AS ADIÇÕES COM MUITA ATENÇÃO:

$$\begin{array}{r} 63 \\ + 24 \\ \hline \end{array}$$

$$\begin{array}{r} 42 \\ + 50 \\ \hline \end{array}$$

$$\begin{array}{r} 15 \\ + 63 \\ \hline \end{array}$$

$$\begin{array}{r} 71 \\ + 6 \\ \hline \end{array}$$

$$\begin{array}{r} 45 \\ + 32 \\ \hline \end{array}$$

$$\begin{array}{r} 86 \\ + 12 \\ \hline \end{array}$$

$$\begin{array}{r} 16 \\ + 52 \\ \hline \end{array}$$

$$\begin{array}{r} 45 \\ + 34 \\ \hline \end{array}$$

$$\begin{array}{r} 50 \\ + 19 \\ \hline \end{array}$$

$$\begin{array}{r} 61 \\ + 17 \\ \hline \end{array}$$

$$\begin{array}{r} 42 \\ + 36 \\ \hline \end{array}$$

$$\begin{array}{r} 54 \\ + 22 \\ \hline \end{array}$$

$$\begin{array}{r} 35 \\ + 41 \\ \hline \end{array}$$

$$\begin{array}{r} 27 \\ + 31 \\ \hline \end{array}$$

$$\begin{array}{r} 30 \\ + 49 \\ \hline \end{array}$$

$$\begin{array}{r} 15 \\ + 72 \\ \hline \end{array}$$

$$\begin{array}{r} 23 \\ + 54 \\ \hline \end{array}$$

$$\begin{array}{r} 41 \\ + 18 \\ \hline \end{array}$$

$$\begin{array}{r} 20 \\ + 59 \\ \hline \end{array}$$

$$\begin{array}{r} 62 \\ + 16 \\ \hline \end{array}$$

$$\begin{array}{r} 44 \\ + 33 \\ \hline \end{array}$$

$$\begin{array}{r} 51 \\ + 26 \\ \hline \end{array}$$

$$\begin{array}{r} 36 \\ + 61 \\ \hline \end{array}$$

$$\begin{array}{r} 25 \\ + 42 \\ \hline \end{array}$$

$$\begin{array}{r} 72 \\ + 12 \\ \hline \end{array}$$