



MUNICÍPIO DE SÃO BERNARDINO

Secretaria de Educação, Cultura e Esportes

Núcleo Escolar Aldino Léo Scheid

nucleoaldinoleoscheidsaobernardino@gmail.com (49) 36540269



APOSTILA DE ATIVIDADES

DE 17 DE AGOSTO A 28 DE AGOSTO DE 2020

ALUNO: _____

TURMA: 2º ANO VESPERTINO E MATUTINO

PROFESSORA: MAIARA SCHNEIDER E DENISE ALBERT



MUNICÍPIO DE SÃO BERNARDINO

Secretaria de Educação, Cultura e Esportes
Núcleo Escolar Aldino Léo Scheid
nucleoaldinoleoscheidsaobernardino@gmail.com (49) 36540269



PROFESSORAS: DENISE ALBERT E MAIARA SCHNEIDER
DISCIPLINA PORTUGUÊS. DIA: 17 DE AGOSTO A 28 DE AGOSTO
ALUNO: _____
ENDEREÇO: _____

A BARRACA DA GISELE.

GISELE É UMA MENINA
QUE AMA TOMAR GEMADA
TAMBÉM GOSTA DE GELEIA
DE MORANGO NA TORRADA

HOJE ELA RESOLVEU
MONTAR UMA BARRAQUINHA
E VENDER PARA VOCÊ
LIMONADA GELADINHA.

GEMADA E TORRADA QUENTE
TUDO QUE MAIS ADORA
COMPRE LOGO ALGUMA COISA
SENÃO TUDO ELA DEVORA.



GI BARBOSA

DE OLHO NA ATIVIDADE

1 - O NOME DO TEXTO É A BARRACA DE ...

- () GEISE
() GISELE
() GILDA

2. COMPLETE A FRASE:

GISELE AMA TOMAR _____.



MUNICÍPIO DE SÃO BERNARDINO

Secretaria de Educação, Cultura e Esportes
 Núcleo Escolar Aldino Léo Scheid
 nucleoaldinoleoscheidsaobernardino@gmail.com (49) 36540269



PROFESSORAS: DENISE ALBERT E MAIARA SCHNEIDER
 DISCIPLINA PORTUGUÊS. DIA: 17 DE AGOSTO A 28 DE AGOSTO
 ALUNO: _____
 ENDEREÇO: _____

3. EM SUA BARRACA GISELE VENDE ...

- () GEMADA, BOLO E COCADA.
 () TORRADA, LIMONADA E GEMADA.
 () GEMADA, AMENDOIM E TORRADA.



4 - CIRCULE NO TEXTO AS PALAVRAS ONDE APARECEM AS SÍLABAS GE E GI E REESCREVA ABAIXO.

5. COMPLETE COM GE OU GI:

RE ____ ME

____ LADA

PÁ ____ NA

____ RAFA

RELÓ ____ O

____ LA

____ RO

____ RINO

MA ____ A

6. LIGUE CORRETAMENTE.



GIRAFÁ



GEMA



GELO

GIRINO





MUNICÍPIO DE SÃO BERNARDINO

Secretaria de Educação, Cultura e Esportes

Núcleo Escolar Aldino Léo Scheid

nucleoaldinoleoscheidsaobernardino@gmail.com (49) 36540269



PROFESSORAS: DENISE ALBERT E MAIARA SCHNEIDER


DISCIPLINA PORTUGUÊS.

DIA: 17 DE AGOSTO A 28 DE AGOSTO

ALUNO: _____

ENDEREÇO: _____

1. EM 5 MINUTOS ESCREVA O MAIOR NÚMERO POSSÍVEL DE PALAVRAS COM GE E GI.



2. COMPLETE AS FRASES COM AS PALAVRAS DO QUADRO.

GISELE GOSTA DE _____.

EU ADORO SUCO _____.

O _____ É MUITO MAU.

GENI COMEU TORRADA COM _____ DE GOIABA.

COMPLETE COM GE OU GI.

_____ LETE

RE _____ ANE

_____ MIDO

MÁ _____ CA

_____ SELE

RE _____ ME

GELÉIA

GIGANTE

GELADO

GEMADA



MUNICÍPIO DE SÃO BERNARDINO

Secretaria de Educação, Cultura e Esportes
Núcleo Escolar Aldino Léo Scheid
nucleoaldinoleoscheidsaobernardino@gmail.com (49) 36540269



PROFESSORAS: DENISE ALBERT E MAIARA SCHNEIDER
DISCIPLINA: MATEMÁTICA. DIA: 17 DE AGOSTO A 28 DE AGOSTO
ALUNO: _____
ENDEREÇO: _____

OS DIAS DA SEMANA

UMA SEMANA É FORMADA POR UM GRUPO DE 7 DIAS. A CONTAGEM DOS DIAS E SEU AGRUPAMENTO POR SEMANA, MESES E ANO É UMA FORMA DE CONTAR O TEMPO.

OS DIAS DA SEMANA SÃO: SEGUNDA-FEIRA, TERÇA-FEIRA, QUARTA-FEIRA, QUINTA-FEIRA, SEXTA-FEIRA, SÁBADO E DOMINGO.

DE ACORDO COM O TEXTO E SEUS CONHECIMENTOS JÁ ADQUIRIDOS, RESOLVAS AS ATIVIDADES A SEGUIR.

1 - UMA SEMANA TEM:

- () 5 DIAS.
() 7 DIAS.
() 8 DIAS.



2 - OS DIAS DA SEMANA QUE NÃO TÊM AULAS, SÃO:

- () SEXTA-FEIRA E SÁBADO.
() SÁBADO E DOMINGO.
() SÁBADO E SEGUNDA-FEIRA.



MUNICÍPIO DE SÃO BERNARDINO

Secretaria de Educação, Cultura e Esportes

Núcleo Escolar Aldino Léo Scheid

nucleoaldinoleoscheidsaobernardino@gmail.com (49) 36540269



PROFESSORAS: DENISE ALBERT E MAIARA SCHNEIDER

DISCIPLINA: MATEMÁTICA.

DIA: 17 DE AGOSTO A 28 DE AGOSTO

ALUNO: _____

ENDEREÇO: _____

ATIVIDADES COM OS MESES DO ANO



1- COMPLETE OS ESPAÇOS.

O ANO TEM -----MESES.

2- O PRIMEIRO MÊS DO ANO É-----.

3- O ULTIMO MÊS DO ANO É -----.

4- QUAIS SÃO OS MESES DO ANO? -----

5- QUAL É O MÊS DO ANO QUE PODE TER 28 OU 29

DIAS? -----

6 – EM QUE MÊS NOS ESTAMOS?-----

7 – QUAL SERÁ O PROXIMO MÊS ?-----

<https://www.professoravaldetecantu.com/>



MUNICÍPIO DE SÃO BERNARDINO

Secretaria de Educação, Cultura e Esportes
Núcleo Escolar Aldino Léo Scheid
nucleoaldinoleoscheidsaobernardino@gmail.com (49) 36540269



PROFESSORAS: DENISE ALBERT E MAIARA SCHNEIDER
DISCIPLINA: MATEMÁTICA. DIA: 17 DE AGOSTO A 28 DE AGOSTO
ALUNO: _____
ENDEREÇO: _____

AVALIAÇÃO

RESOLVA OS PROBLEMAS MATEMÁTICOS ABAIXO:

1-ROBERTA COMPROU 86 FIGURINHAS E GANHOU 25 DE SEU PRIMO. COM QUANTAS FIGURINHAS ROBERTA FICOU?

2- NA BIBLIOTECA DA ESCOLA HAVIA 19 LIVROS DE AVENTURA. OS ALUNOS VER TIRARAM 5. QUANTOS LIVROS FICARAM ?

3- ANDRÉ TINHA 18 BOLINHAS, DURANTE UM JOGO PERDEU 14. COM QUANTAS BOLINHAS FICOU?

4- CLÁUDIO COLHEU 37 MANGAS ELIA 15. QUANTAS MANGAS CLÁUDIO E LIA COLHERAM JUNTOS?

5- EDUARDO TEM 13 SELOS E ALBERTO TEM 19 SELOS. QUANTOS SELOS TEM EDUARDO E ALBERTO JUNTOS?

6- VOVÓ CONVIDOU 39 PESSOAS PARA A FESTA DE SEU ANIVERSÁRIO, 15 PESSOAS NÃO VIERAM COM MEDO DO VÍRUS. QUANTAS PESSOAS VIERAM NA FESTA?



MUNICÍPIO DE SÃO BERNARDINO

Secretaria de Educação, Cultura e Esportes
Núcleo Escolar Aldino Léo Scheid
nucleoaldinoleoscheidsaobernardino@gmail.com (49) 36540269



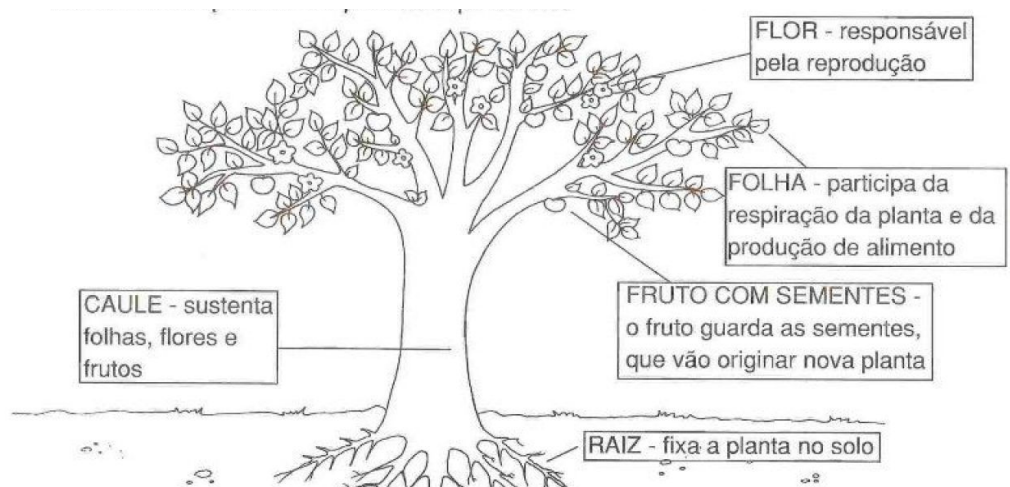
PROFESSORAS: DENISE ALBERT E MAIARA SCHNEIDER

DISCIPLINA: CIÊNCIAS.

DIA: 17 DE AGOSTO A 28 DE AGOSTO

ALUNO: _____

ENDEREÇO: _____



AVALIAÇÃO

O REINO VEGETAL

1. NUMERE A SEGUNDA COLUNA DE ACORDO COM A PRIMEIRA.

- | | | |
|---------|-----|-------------------------|
| 1 RAIZ | () | CANA-DE-AÇÚCAR, PALMITO |
| 2 FRUTO | () | MANDIOCA, CENOURA |
| 3 CAULE | () | ALFACE, ESPINAFRE |
| 4 FOLHA | () | MANGA, MAÇÃ |

2. ALGUMAS PARTES DA PLANTA SERVEM DE ALIMENTO AO HOMEM. ESCREVA DOIS EXEMPLOS DE VEGETAIS, DE ACORDO COM A PARTE QUE É UTILIZADA NA ALIMENTAÇÃO.

A. SEMENTES: _____.

B. RAÍZES: _____.

C. CAULES: _____.

D. FOLHAS: _____.

3. COLOQUE V PARA AS FRASES VERDADEIRAS E F PARA AS FALSAS.

- () O CAULE É FORTE E SUSTENTA OS GALHOS.
 () DAS FOLHAS, SE DESENVOLVEM AS SEMENTES.
 () A RAIZ FIXA A PLANTA NA TERRA.
 () AS FOLHAS NÃO PRECISAM DO SOL.



MUNICÍPIO DE SÃO BERNARDINO

Secretaria de Educação, Cultura e Esportes
Núcleo Escolar Aldino Léo Scheid
nucleoaldinoleoscheidsaobernardino@gmail.com (49) 36540269



PROFESSORAS: DENISE ALBERT E MAIARA SCHNEIDER

DISCIPLINA: CIÊNCIAS.

DIA: 17 DE AGOSTO A 28 DE AGOSTO

ALUNO: _____

ENDEREÇO: _____

4. ESCOLHA UMA PLANTA E FAÇA UMA PESQUISA A RESPEITO DELA. ESCREVA OS DADOS SOLICITADOS E REPRESENTA-A COM UM DESENHO. NÃO SE ESQUEÇA DE COLORIR.

NOME DA PLANTA: _____

DELA BROTAM FLORES? _____

NOME DAS FLORES: _____

ELA DÁ FRUTOS? _____

NOME DOS FRUTOS: _____



MUNICÍPIO DE SÃO BERNARDINO

Secretaria de Educação, Cultura e Esportes
Núcleo Escolar Aldino Léo Scheid
nucleoaldinoleoscheidsaobernardino@gmail.com (49) 36540269



PROFESSORAS: DENISE ALBERT E MAIARA SCHNEIDER

DISCIPLINA: HISTÓRIA E GEOGRAFIA.

DIA: 17 DE AGOSTO A 28 DE AGOSTO

ALUNO: _____

ENDEREÇO: _____

PARA COLORIR

DIA DO FOLCLORE – 22 DE AGOSTO

NO DIA 22 DE AGOSTO COMEMORAMOS O FOLCLORE BRASILEIRO. FOLCLORE QUER DIZER COSTUMES DE UM POVO: FESTAS, DANÇAS, MÚSICAS, VESTIMENTAS, JOGOS, HISTÓRIAS, LENDAS, BRINCADEIRAS.

OBSERVE ESTES PERSONAGENS DO NOSSO FOLCLORE E PINTE-OS.



IARA



MULA-SEM-CABEÇA



SACI-PERERÊ



NEGRINHO DO PASTOREIRO



CURUPIRA



MUNICÍPIO DE SÃO BERNARDINO

Secretaria de Educação, Cultura e Esportes

Núcleo Escolar Aldino Léo Scheid

nucleoaldinoleoscheidsaobernardino@gmail.com (49) 36540269



PROFESSORAS: DENISE ALBERT E MAIARA SCHNEIDER

DISCIPLINA: HISTÓRIA E GEOGRAFIA.

DIA: 17 DE AGOSTO A 28 DE AGOSTO

ALUNO: _____

ENDEREÇO: _____

**CACA
PALAVRAS**

**ENCONTRE NO DIAGRAMA
CITO NOMES DIFERENTES
PELOS QUAIS SE CONHECE
A BENDA DO SACI-PERERÊ
PELO BRASIL.**



**SEM-FIM
SIRIRI
SAÇURA
TAPERERÊ
MATINTAPEREIRA
SARERÊ
CERERÊ
TRIQUE**

S	E	M	F	O	M	E	T	A	Ç
A	T	R	I	S	A	Ç	O	R	U
C	A	P	E	R	T	O	M	A	T
E	S	E	M	F	I	M	S	R	A
M	A	T	I	N	N	T	A	P	P
I	R	R	A	V	T	A	R	I	E
N	E	I	Ç	U	A	P	E	N	R
G	R	Q	P	D	P	E	R	A	E
C	E	R	E	R	E	R	O	M	R
A	I	U	R	T	R	I	Q	U	E
U	O	E	U	G	E	U	E	A	A
O	T	S	I	R	I	R	I	O	
T	A	P	E	R	R	E	R	E	O
V	Z	B	O	S	A	Ç	U	R	A



MUNICÍPIO DE SÃO BERNARDINO

Secretaria de Educação, Cultura e Esportes
Núcleo Escolar Aldino Léo Scheid
nucleoaldinoleoscheidsaobernardino@gmail.com (49) 36540269



PROFESSORAS: DENISE ALBERT E MAIARA SCHNEIDER
DISCIPLINA: HISTÓRIA E GEOGRAFIA. DIA: 17 DE AGOSTO A 28 DE AGOSTO
ALUNO: _____
ENDEREÇO: _____

Peraltices do Saci

Isabel Cristina Silveira Soares



A Iara perdeu o pente
Dona Cuca o caldeirão
Boitatá perdeu o fogo
E não há explicação!



O Boto cor-de-rosa
Não sabia o que fazer
Mas estava todo prosa
Pois não tinha o que perder!



Dona Mula-sem-cabeça
Descobriu e deu socorro
Achou todos os perdidos
Com o Saci, dentro do gorro!



Que moleque travesso!



MUNICÍPIO DE SÃO BERNARDINO

Secretaria de Educação, Cultura e Esportes

Núcleo Escolar Aldino Léo Scheid

nucleoaldinoleoscheidsaobernardino@gmail.com (49) 36540269



PROFESSORAS: DENISE ALBERT E MAIARA SCHNEIDER

DISCIPLINA: HISTÓRIA E GEOGRAFIA.

DIA: 17 DE AGOSTO A 28 DE AGOSTO

ALUNO: _____

ENDEREÇO: _____

MARQUE X NO QUE FAZ PARTE DO NOSSO FOLCLORE:

PAMONHA

ADIVINHAS

FRUTAS

DANÇAS

FESTAS


SUPERSTIÇÕES

BATOM

BOITATÁ

CANTIGAS DE RODA

REMÉDIOS CASEIROS



MALA

IARA

SORVETE

ESMALTE

PARLENDAS

PROVÉRBIOS

SACI

CURUPIRA

BOTO

REVISTA

COLOQUE AS PALAVRAS ACIMA NA ORDEM ALFABÉTICA:



MUNICÍPIO DE SÃO BERNARDINO

Secretaria de Educação, Cultura e Esportes

Núcleo Escolar Aldino Léo Scheid

nucleoaldinoleoscheidsaobernardino@gmail.com (49) 36540269



PROFESSORAS: DENISE ALBERT E MAIARA SCHNEIDER

DISCIPLINA: RELIGIÃO.

DIA: 17 DE AGOSTO A 28 DE AGOSTO

ALUNO: _____

ENDEREÇO: _____

A BÍBLIA ME ENSINA A SER VERDADEIRO E HONESTO

O Senhor José perdeu uma carteira com algum dinheiro e Neide a encontrou.

O que você faria se estivesse no lugar de Neide? Compraria sorvete?

Pinte a cena que indica a sua escolha.



Pense em alguma ação honesta que você tenha praticado e represente-a através de um desenho.

