



MUNICÍPIO DE SÃO BERNARDINO

Secretaria de Educação, Cultura e Esportes

Núcleo Escolar Aldino Léo Scheid

nucleoaldinoleoscheidsaobernardino@gmail.com (49) 36540269



APOSTILA DE ATIVIDADES

ATIVIDADES DE 27 JULHO A 07 DE AGOSTO DE 2020

TURMA: 5º ANO TURNO: MATUTINO/VESPERTINO
PROFESSORA: ROSELI WOLFART / DENISE ALBERT



MUNICÍPIO DE SÃO BERNARDINO

Secretaria de Educação, Cultura e Esportes
Núcleo Escolar Aldino Léo Scheid
nucleoaldinoleoscheidsaobernardino@gmail.com (49) 36540269



PROFESSORA: ROSELI WOLFART/ DENISE ALBERT.
DISCIPLINA: ENSINO RELIGIOSO DIA: 27 DE JULHO E 03 DE AGOSTO DE 2020.
ALUNO: _____ 5º ANO MATUTINO E VESPERTINO.

LEIA COM ATENÇÃO O TEXTO VIRTUDE E FELICIDADE

MEDITANDO...

★ O ser humano precisa praticar VALORES. Nós só nos realizamos como seres humanos sendo virtuosos.

Virtude e felicidade

Será a virtude uma coisa
Chata, difícil e dura?
Será que ela é contrária
Ao que o homem mais procura?

Tem gente que acha assim:
Melhor é não ter virtude,
Fazer o que der na telha,
Sem tomar uma atitude!

Procurar prazer em tudo,
Mesmo à custa de outro alguém,
Viver sem bússola justa,
Além do mal e do bem!

Mas filósofos avisam
E a religião também diz:
Engana-se quem procura
Fora do bem, ser feliz!

Felicidade é a virtude
Praticada a cada dia,
É a justiça das ações
Sem vaidade ou covardia.

Ser feliz é muito mais
Que viver só de prazer...
É uma paz de consciência,
Feliz é ser, mais que ter...

Quem sabe enxergar a vida
Pelo prisma da virtude
É que é feliz de verdade
E ante o mundo não se ilude!

Justiça, amor e bondade
É que não são ilusões,
Pois podem brotar tranquilas
Nos humanos corações.

Poema de Dote Incontri

1-O QUE VOCÊ ENTENDE POR VIRTUDE SEGUNDO O TEXTO?

.....
.....
.....
.....

2- QUAIS SÃO OS SENTIMENTOS MAIS VALIOSOS PARA VOCÊ E SUA FAMÍLIA?

.....
.....
.....



MUNICÍPIO DE SÃO BERNARDINO

Secretaria de Educação, Cultura e Esportes
Núcleo Escolar Aldino Léo Scheid
nucleoaldinoleoscheidsaobernardino@gmail.com (49) 36540269



PROFESSORA: ROSELI WOLFART /DENISE ALBERT.

DISCIPLINA: CIÊNCIAS.

DIA 27 DE JULHO E 03 DE AGOSTO DE 2020.

ALUNO: _____ 5º ANO MATUTINO E VESPERTINO.

ENDEREÇO: _____

CONDUTORES E ISOLANTES ELÉTRICOS.

LER NO LIVRO DIDÁTICO DE CIÊNCIAS PÁGINAS 70-71-72-73-74-75-76-77-78-79-80-81-82-83.

PENSE BEM!

➤ Siga as coordenadas do quadro abaixo e encontre, no diagrama, o nome de dois tipos de eletricidade.

	1	2	3	4	5	6	7
A	T	V	C	D	W	A	Q
B	Z	X	T	C	Ã	H	I
C	N	J	K	C	B	C	D
D	F	Ã	M	F	G	T	I
E	G	A	S	D	F	I	M
F	H	E	W	Q	S	J	H



A) Eletricidade obtida por corrente elétrica que acende a luz, liga os eletrodomésticos, corre dentro de fios e é invisível. É chamada, também, de corrente elétrica.

A - 4	B - 7	C - 1	B - 5	D - 3	E - 6	C - 4	E - 2

Resposta: _____

B) Eletricidade que produzimos, por meio de atrito (contato e movimento).

F - 2	F - 5	A - 1	D - 2	B - 3	D - 7	C - 6	A - 6

Resposta: _____

**A eletricidade faz parte do nosso cotidiano;
é também uma forma de energia.**



MUNICÍPIO DE SÃO BERNARDINO

Secretaria de Educação, Cultura e Esportes
Núcleo Escolar Aldino Léo Scheid

nucleoaldinoleoscheidsaobernardino@gmail.com (49) 36540269



PROFESSORA: ROSELI WOLFART /DENISE ALBERT.

DISCIPLINA: CIÊNCIAS.

DIA: 27 DE JULHO E 03 DE AGOSTO DE 2020.

ALUNO: _____ 5º ANO MATUTINO E VESPERTINO.

ENDEREÇO: _____

Condutores Elétricos: metais

Em geral, todos os metais são bons condutores elétricos, sendo os melhores condutores: a prata e o cobre, por apresentar maior condutividade elétrica, devido ao valor da prata, os fios condutores utilizados são compostos em sua maioria de cobre.

Corrente elétrica

• Condutores elétricos

Bons condutores elétricos – são materiais através dos quais a corrente elétrica passa. Exemplos: metais e grafite

Maus condutores ou isoladores elétricos – são materiais através dos quais a corrente elétrica não passa. Exemplos: borracha, plástico, madeira



ATIVIDADES:

1-QUAL É A PROPRIEDADE COMUM A TODOS OS ÍMÃS?

.....

.....

.....

.....

2-QUAL É A DIFERENÇA ENTRE ÍMÃS NATURAIS E ÍMÃS ARTIFICIAIS?

.....

.....

.....

3-AO APROXIMAR UM IMÃ DE OUTRO, ELES PODEM SE REPELIR OU SE ATRAIR. POR QUE ISSO OCORRE?

.....

.....

.....



MUNICÍPIO DE SÃO BERNARDINO

Secretaria de Educação, Cultura e Esportes

Núcleo Escolar Aldino Léo Scheid

nucleoaldinoleoscheidsaobernardino@gmail.com (49) 36540269



PROFESSORAS: ROSELI WOLFART/DENISE ALBERT.

DISCIPLINA: GEOGRAFIA.

ALUNO: _____

ENDEREÇO: _____

DIA 28 de JULHO E 04 DE AGOSTO 2020.

5º ANO MATUTINO E VESPERTINO.


ATIVIDADES:

1-LER NO LIVRO DIDÁTICO DE GEOGRAFIA PÁGINAS 83-84-85-86-87-88-89;


2-BASEADO NA LEITURA FEITA NO LIVRO DIDÁTICO DE GEOGRAFIA. O TEMPO E O CLIMA PINTE O MAPA CORRETAMENTE E RESPONDA AS QUESTÕES A SEGUIR:


1. Identifique as regiões no mapa de climas e pinte conforme a legenda.




Pinte de  a região com clima Equatorial

Pinte de  a região com clima Tropical

Pinte de  a região com clima Semiárido

Pinte de  a região com clima Tropical de altitude

Pinte de  a região com clima Subtropical

Pinte de  a região com clima Tropical atlântico

2. Dê as características dos tipos de climas pedidos

a) Tropical atlântico:

b) Subtropical:

c) Semiárido:



MUNICÍPIO DE SÃO BERNARDINO

Secretaria de Educação, Cultura e Esportes

Núcleo Escolar Aldino Léo Scheid

nucleoaldinoleoscheidsaobernardino@gmail.com (49) 36540269



PROFESSORA: ROSELI WOLFART E DENISE ALBERT.

DISCIPLINA: HISTÓRIA.

DIA 29 DE JULHO E 05 DE AGOSTO DE 2020.

ALUNO: _____

5º ANO MATUTINO E VESPERTINO.

ENDEREÇO: _____

HISTÓRIA DO MUNICÍPIO DE SÃO BERNARDINO

São Bernardino surgiu no ano de 1957 com a chegada de colonos vindos do Estado do Rio Grande do Sul, onde desbravaram a mata nativa e construíram as primeiras casas, iniciando o cultivo de milho e outros cereais.

As primeiras famílias que aqui fixaram residência foram dos agricultores: Salvador Leite de Andrade, Chico Galdino, Aldino Leo Scheid, Jacó Otto Follmann, João Weschenfelder, Affonso Fritzen, Fridholdo João Walker e Emilio Wolfart. No ano de 1958, construíram também a primeira Igreja e Escola do futuro Município.

São Bernardino foi emancipado em 19 de Julho de 1995, através da Lei Estadual 8.998/95, dos municípios de Campo Erê e São Lourenço do Oeste. Está localizado no Noroeste Catarinense, conta com 210 Km², possui uma população de 2.677 habitantes, sendo 719 habitantes no perímetro urbano e 1928 na área rural.

A instalação do município ocorreu em 1º de janeiro de 1997 e foi administrado por Waldir Antônio Walker - Prefeito Municipal e Epitácio Lourenço Lopes – Vice-Prefeito, no período de 1997 à 2004. Atualmente é administrado por Adeli José Riffel (Prefeito) e Claudir Kell dos Santos (Vice-prefeito).

A economia do Município está baseada na agricultura, indústria, comércio e prestação de serviços. Na agricultura o município destaca-se pela criação de aves, suínos e gado de corte. É ainda grande produtor de leite, milho, feijão, fumo e laranja.

Outra atividade que vem aumentando a renda dos produtores rurais é a piscicultura e o reflorestamento.

ATIVIDADES:

1-Em que ano chegaram as primeiras famílias e de onde vieram?

.....
.....
.....



MUNICÍPIO DE SÃO BERNARDINO

Secretaria de Educação, Cultura e Esportes

Núcleo Escolar Aldino Léo Scheid

nucleoaldinoleoscheidsaobernardino@gmail.com (49) 36540269



PROFESSORA: ROSELI WOLFART E DENISE ALBERT.

DISCIPLINA: HISTÓRIA.

DIA 29 DE JULHO E 05 DE AGOSTO DE 2020.

ALUNO: _____ 5º ANO MATUTINO E VESPERTINO.

ENDEREÇO: _____

2-Quando São Bernardino foi emancipado, através de qual Lei?

.....
.....
.....

3-Quem foi o primeiro prefeito e vice-prefeito de São Bernardino?

.....
.....

4-Ler e cantar várias vezes o Hino de São Bernardino. Use a criatividade, você pode usar um instrumento musical, violão gaita ou até mesmo o áudio da música que foi postado no grupo de estudo. Fazer o vídeo e enviar para a professora:

HINO DE SÃO BERNARDINO.

SÃO BERNADINO NOSSA HISTÓRIA
É FRUTO DE UM POVO UNIDO
ÉS BELA É LUZ É NOSSA GLÓRIA
ÉS BERÇO QUE ACOLHE OS TEUS FILHOS
RIOS, CAMPOS, FLORES, NATUREZA.
ÉS DE NOSSA VIDA UMA PAIXÃO
SÃO BERNARDINO TEU NOME
LEVO NO MEU CORAÇÃO

TEU POVO TUA CULTURA
MOSTRA O QUE AGENTE FAZ
TEM SEU PASSADO NA HISTÓRIA
E UM FUTURO PROMISSOR
TERRAS MARAVILHOSAS
TEU VERDE ENCANTADOR
SÃO BERNARDINO É NOSSO ORGULHO
É NOSSA TERRA DE AMOR

AUTOR: CLAITON ABEL E NETINHO.



MUNICÍPIO DE SÃO BERNARDINO

Secretaria de Educação, Cultura e Esportes
Núcleo Escolar Aldino Léo Scheid
nucleoaldinoleoscheidsaobernardino@gmail.com (49) 36540269



PROFESSORAS: ROSELI WOLFART E DENISE ALBERT

DISCIPLINA: PORTUGUÊS

ALUNO: _____

ENDEREÇO: _____

DIA 30 DE JULHO A 06 DE AGOSTO DE 2020.

5º ANO, MAT E VESP.

AVALIAÇÃO DE PORTUGUÊS

1- CIRCULE OS VERBOS NAS FRASES:

- | | |
|---------------------------|--------------------------------|
| a) Os meninos jogam bola. | d) O sorveteiro vende sorvete. |
| b) Marcelo estuda muito. | e) Papai viaja de ônibus. |
| c) Vera corre na praia. | f) Ana coleciona bonecas. |

2. Complete estas frases com o verbo "comprar":

- | | |
|---------------|------------|
| a) Eu _____ | a bola. |
| b) Você _____ | o livro. |
| c) Ele _____ | a panela. |
| d) Nós _____ | o relógio. |
| e) Elas _____ | o rádio. |



3. Complete as frases com o verbo "estudar":

- | | |
|----------------|----------|
| a) Eu _____ | a lição. |
| b) Ele _____ | a lição. |
| c) Você _____ | a lição. |
| d) Nós _____ | a lição. |
| e) Eles _____ | a lição. |
| f) Vocês _____ | a lição. |



4. Complete as frases com o verbo "brincar":

- | | |
|----------------|---------------------|
| a) Eu _____ | de corda. |
| b) Ele _____ | de bola. |
| c) Você _____ | de boneca. |
| d) Nós _____ | de balanço. |
| e) Eles _____ | de baralho. |
| f) Vocês _____ | de esconde-esconde. |



OBS: COMPLETE A QUESTÃO NÚMERO 2 COM O VERBO (COMPRAR) NO TEMPO PRESENTE.
QUESTÃO NÚMERO 3 COM O VERBO (ESTUDAR) NO TEMPO PASSADO.
QUESTÃO NÚMERO 4 COM O VERBO (BRINCAR) NO TEMPO FUTURO.



MUNICÍPIO DE SÃO BERNARDINO

Secretaria de Educação, Cultura e Esportes
Núcleo Escolar Aldino Léo Scheid
nucleoaldinoleoscheidsaobernardino@gmail.com (49) 36540269



PROFESSORAS: ROSELI WOLFART E DENISE ALBERT

DISCIPLINA: PORTUGUÊS

DIA 30 DE JULHO A 06 DE AGOSTO DE 2020

ALUNO: _____ 5º ANO MAT E VESP.

ENDEREÇO: _____



Complete as frases abaixo com os verbos no passado e no futuro.

a) Ontem, os turistas _____ as praias, amanhã, eles _____ o shopping. (visitar)

b) Ontem, os camponeses _____ o trigo, amanhã _____ a soja. (colher)

c) Os funcionários da fábrica _____ ontem e agora só _____ novamente no próximo mês. (receber)

d) As crianças _____ ontem no clube e amanhã _____ na praia. (nadar)

EXPLIQUE O QUE É VERBO:

EXPLIQUE O QUE TEMPO PASSADO:

EXPLIQUE O QUE É TEMPO PRESENTE:

EXPLIQUE O QUE É TEMPO FUTURO:

CITE EXEMPLOS DE VERBOS:



MUNICÍPIO DE SÃO BERNARDINO

Secretaria de Educação, Cultura e Esportes

Núcleo Escolar Aldino Léo Scheid

nucleoaldinoleoscheidsaobernardino@gmail.com (49) 36540269



PROFESSORAS: ROSELI WOLFART E DENISE ALBERT

DISCIPLINA: MATEMÁTICA

DIA 31 DE JULHO A 07 DE AGOSTO DE 2020

ALUNO: _____ 5º ANO MAT E VESP.

ENDEREÇO: _____

AVALIAÇÃO DE MATEMÁTICA.

Painel dos múltiplos

- ◆ Pinte no painel com cores diferentes o que se pede abaixo e depois escreva o resultado nos espaços correspondentes:

0	1	2	3	4	5	6	7	8	9
10	11	12	13	14	15	16	17	18	19
20	21	22	23	24	25	26	27	28	29
30	31	32	33	34	35	36	37	38	39
40	41	42	43	44	45	46	47	48	49
50	51	52	53	54	55	56	57	58	59
60	61	62	63	64	65	66	67	68	69
70	71	72	73	74	75	76	77	78	79
80	81	82	83	84	85	86	87	88	89
90	91	92	93	94	95	96	97	98	99



a) Múltiplos de 7 menores que 40.

M (7) = { _____, _____, _____, _____, _____ }

b) Múltiplos de 5 maiores que 75.

M (5) = { _____, _____, _____ }

c) Múltiplos de 4 maiores que 8 e menores que 32.

M (4) = { _____, _____, _____, _____ }

d) Múltiplos de 6 compreendidos entre 40 e 70.

M (6) = { _____, _____, _____ }

1- O QUE SÃO MÚLTIPLOS CITE EXEMPOS:



MUNICÍPIO DE SÃO BERNARDINO

Secretaria de Educação, Cultura e Esportes
Núcleo Escolar Aldino Léo Scheid
nucleoaldinoleoscheidsaobernardino@gmail.com (49) 36540269



PROFESSORAS: ROSELI WOLFART E DENISE ALBERT

DISCIPLINA: MATEMÁTICA

DIA 31 DE JULHO A 07 DE AGOSTO DE 2020

ALUNO: _____ 5º ANO MAT E VESP.

ENDEREÇO: _____

AVALIAÇÃO DE MATEMÁTICA

5 – Dentre os números

60 - 531 - 120 - 36 - 540 - 27

Quais são divisíveis:

Por 2? _____

Por 3? _____

Por 5? _____

Por 6? _____

Por 10? _____

6 – Escreva no quadro os números que são divisíveis ao mesmo tempo por 3 e por 9:

105 - 127 - 252 - 612 - 626 - 108 - 39 - 27

--

7 – Pinte os números divisíveis por:

8 31 40 64 125 128 146

9 15 27 44 54 80 63

EXPLIQUE O QUE SÃO DIVISORES CITE EXEMPLOS:



MUNICÍPIO DE SÃO BERNARDINO

Secretaria de Educação, Cultura e Esportes

Núcleo Escolar Aldino Léo Scheid

nucleoaldinoleoscheidsaobernardino@gmail.com (49) 36540269



PROFESSORAS: ROSELI WOLFART E DENISE ALBERT

DISCIPLINA: MATEMÁTICA

DIA 31 DE JULHO A 07 DE AGOSTO DE 2020

ALUNO: _____ 5º ANO MAT E VESP.

ENDEREÇO: _____

Atenção alunos montar as continhas e resolver as mesmas nessa folha ou no verso se faltar espaço:

1) Arme e resolva:

- a) $99 \times 44 =$
- b) $517 \times 8 =$
- c) $438 \times 15 =$
- d) $119 \times 24 =$
- e) $59 \times 17 =$
- f) $408 \times 12 =$

2) Resolva as operações abaixo:

- a) $925 : 5 =$
- b) $436 : 3 =$
- c) $400 : 4 =$
- d) $500 : 5 =$
- e) $723 : 4 =$

3) Complete com os resultados:

- a) $4567 + 245 =$
- b) $290 + 107 =$
- c) $562 + 56 =$
- d) $600 + 67 =$
- e) $647 + 309 =$
- f) $622 + 450 =$

4) Resolva as operações a seguir:

- a) $345 - 20 =$
- b) $521 - 56 =$
- c) $678 - 43 =$
- d) $3765 - 1333 =$