



MUNICÍPIO DE SÃO BERNARDINO

Secretaria de Educação, Cultura e Esportes

Núcleo Escolar Aldino Léo Scheid

nucleoaldinoleoscheidsaobernardino@gmail.com (49) 36540269



APOSTILA DE ATIVIDADES

ATIVIDADES DE 27 DE JULHO ATÉ 07 DE AGOSTO DE 2020

ATIVIDADES COMPLEMENTARES

TURMA: 2º ANO MATUTINO

PROFESSORA: DENISE ALBERT



MUNICÍPIO DE SÃO BERNARDINO

Secretaria de Educação, Cultura e Esportes
Núcleo Escolar Aldino Léo Scheid
nucleoaldinoleoscheidsaobernardino@gmail.com (49) 36540269



PROFESSORA: DENISE ALBERT

DIA 27 DE JULHO A 07 DE AGOSTO DE 2020.

ALUNO: _____

2º ANO, MATUTINO.

ENDEREÇO: _____

1) Conte e descubra quantos animais há em cada conjunto:

- Colorir o conjunto que tem o maior número de animais.

2) Complete a tabela com os números faltosos:

0		2			5	6				10
	12			15				19	20	



MUNICÍPIO DE SÃO BERNARDINO

Secretaria de Educação, Cultura e Esportes
Núcleo Escolar Aldino Léo Scheid
nucleoaldinoleoscheidsaobernardino@gmail.com (49) 36540269



PROFESSORA: DENISE ALBERT

DIA 27 DE JULHO A 07 DE AGOSTO DE 2020.

ALUNO: _____

2º ANO, MATUTINO

ENDEREÇO: _____

1) Conte e descubra quantos animais há em cada conjunto. Não se esqueça de colorir os círculos de acordo com o número que você descobriu:

	<input type="text"/>
<input type="text"/>	<input type="text"/>
	<input type="text"/>
<input type="text"/>	<input type="text"/>
	<input type="text"/>
<input type="text"/>	<input type="text"/>
	<input type="text"/>
<input type="text"/>	<input type="text"/>
	<input type="text"/>
<input type="text"/>	<input type="text"/>
	<input type="text"/>
<input type="text"/>	<input type="text"/>
	<input type="text"/>
<input type="text"/>	<input type="text"/>
	<input type="text"/>
<input type="text"/>	<input type="text"/>

- Colorir o quadrinho do conjunto que tem o maior número de animais.
- Faça um X no quadrinho do conjunto que tem o maior número de animais.



MUNICÍPIO DE SÃO BERNARDINO

Secretaria de Educação, Cultura e Esportes
Núcleo Escolar Aldino Léo Scheid
nucleoaldinoleoscheidsaobernardino@gmail.com (49) 36540269



PROFESSORA: DENISE ALBERT

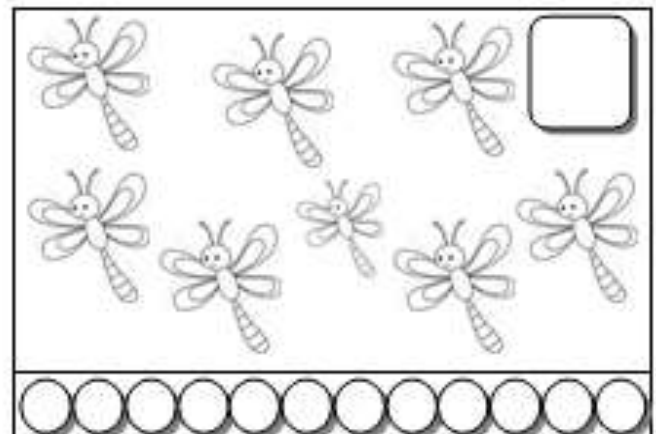
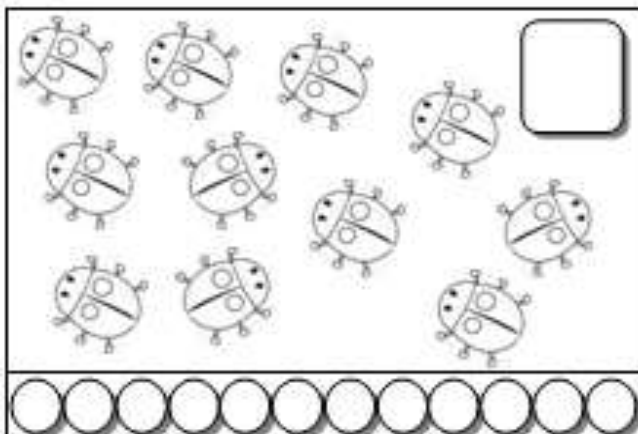
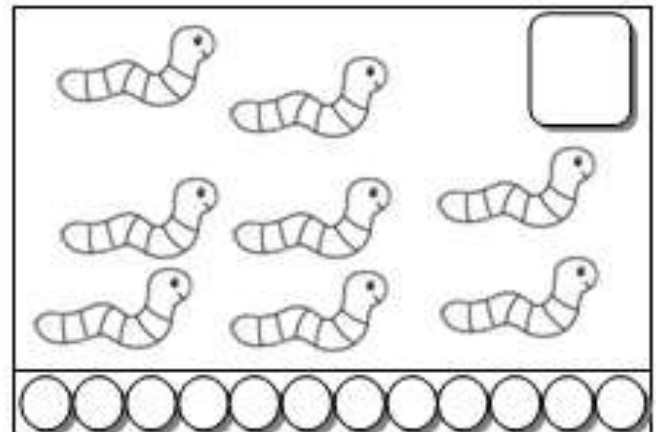

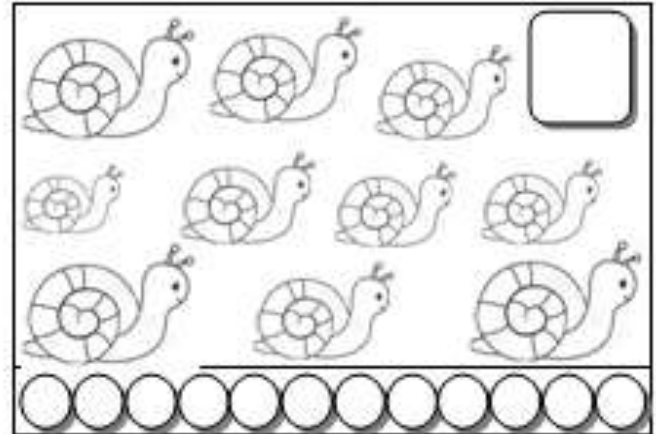

DIA 27 DE JULHO A 07 DE AGOSTO DE 2020.

ALUNO: _____


2º ANO, MATUTINO.

ENDEREÇO: _____

- Conte e descubra quantos animais há em cada conjunto:



- Colorir o conjunto que tem o maior número de animais.





MUNICÍPIO DE SÃO BERNARDINO

Secretaria de Educação, Cultura e Esportes
Núcleo Escolar Aldino Léo Scheid
nucleoaldinoleoscheidsaobernardino@gmail.com (49) 36540269



PROFESSORA: DENISE ALBERT

DIA 27 DE JULHO A 07 DE AGOSTO DE 2020.

.ALUNO:

2º ANO, MATUTINO.

ENDEREÇO: _____

- Colorir os círculos de acordo com o número de elementos de cada conjunto e escrever o número que os representam:

- Complete a reta numerada com os números faltosos:





MUNICÍPIO DE SÃO BERNARDINO

Secretaria de Educação, Cultura e Esportes
Núcleo Escolar Aldino Léo Scheid
nucleoaldinoleoscheidsaobernardino@gmail.com (49) 36540269



PROFESSORA: DENISE ALBERT
















DIA 27 DE JULHO A 07 DE AGOSTO DE 2020.

ALUNO: _____















2º ANO, MATUTINO















ENDEREÇO: _____

- Observe cada cena e pinte o número certo:

														
1	2	3	4	5	6	7	8	9	10	11	12	13	14	15

														
1	2	3	4	5	6	7	8	9	10	11	12	13	14	15

														
1	2	3	4	5	6	7	8	9	10	11	12	13	14	15

														
1	2	3	4	5	6	7	8	9	10	11	12	13	14	15







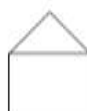


														
1	2	3	4	5	6	7	8	9	10	11	12	13	14	15

														
1	2	3	4	5	6	7	8	9	10	11	12	13	14	15

- Resolva as adições:

$\square + 2$	$\square + 3$	$\square + 4$	$\square + 5$	$\square + 8$	$\square + 6$
---------------	---------------	---------------	---------------	---------------	---------------

- Escreva os vizinhos dos números que indicam a quantidade de votos de cada brincadeira:

	3			9			7			10		
---	----------	---	---	----------	---	---	----------	--	---	-----------	---	---



MUNICÍPIO DE SÃO BERNARDINO

Secretaria de Educação, Cultura e Esportes
Núcleo Escolar Aldino Léo Scheid
nucleoaldinoleoscheidsaobernardino@gmail.com (49) 36540269



PROFESSORA: DENISE ALBERT

DIA 27 DE JULHO A 07 DE AGOSTO DE 2020.

ALUNO: _____

2º ANO, MATUTINO.

ENDEREÇO: _____



@cilgin_ogretmen



MUNICÍPIO DE SÃO BERNARDINO

Secretaria de Educação, Cultura e Esportes
Núcleo Escolar Aldino Léo Scheid
nucleoaldinoleoscheidsaobernardino@gmail.com (49) 36540269




PROFESSORA: DENISE ALBERT

DIA 27 DE JULHO A 07 DE AGOSTO DE 2020.

ALUNO: _____ 2º ANO, MATUTINO.

ENDEREÇO: _____

REPASSE OS PONTILHADOS PARA FORMAR UM LINDO DESENHO, DEPOIS É SÓ COLORIR:





MUNICÍPIO DE SÃO BERNARDINO

Secretaria de Educação, Cultura e Esportes
Núcleo Escolar Aldino Léo Scheid
nucleoaldinoleoscheidsaobernardino@gmail.com (49) 36540269



PROFESSORA: DENISE ALBERT

DIA 27 DE JULHO A 07 DE AGOSTO DE 2020.

ALUNO: _____

2º ANO, MATUTINO.

ENDEREÇO: _____

REPASSE OS PONTILHADOS, SEGUIDA COLE PAPEL CREPON NAS GOTAS DE CHUVA.





MUNICÍPIO DE SÃO BERNARDINO

Secretaria de Educação, Cultura e Esportes
Núcleo Escolar Aldino Léo Scheid
nucleoaldinoleoscheidsaobernardino@gmail.com (49) 36540269



PROFESSORA: DENISE ALBERT















DIA 27 DE JULHO A 07 DE AGOSTO DE 2020.

ALUNO: _____

2º ANO, MATUTINO.

ENDEREÇO: _____

FAÇA COMO NO MODELO

	+		=	<input type="text" value="2"/>	+	<input type="text" value="3"/>	=	<input type="text" value="5"/>
	+		=	<input type="text"/>	+	<input type="text"/>	=	<input type="text"/>
	+		=	<input type="text"/>	+	<input type="text"/>	=	<input type="text"/>
	+		=	<input type="text"/>	+	<input type="text"/>	=	<input type="text"/>
	+		=	<input type="text"/>	+	<input type="text"/>	=	<input type="text"/>
	+		=	<input type="text"/>	+	<input type="text"/>	=	<input type="text"/>
	+		=	<input type="text"/>	+	<input type="text"/>	=	<input type="text"/>



MUNICÍPIO DE SÃO BERNARDINO

Secretaria de Educação, Cultura e Esportes
Núcleo Escolar Aldino Léo Scheid
nucleoaldinoleoscheidsaobernardino@gmail.com (49) 36540269



PROFESSORA: DENISE ALBERT

DIA 27 DE JULHO A 07 DE AGOSTO DE 2020.

ALUNO: _____ 2º ANO, MATUTINO.

ENDEREÇO: _____

RELACIONE E LIGUE A PRIMEIRA COLUNA COM A SEGUNDA.

