



MUNICÍPIO DE SÃO BERNARDINO

Secretaria de Educação, Cultura e Esportes

Núcleo Escolar Aldino Léo Scheid

nucleoaldinoleoscheidsaobernardino@gmail.com (49) 36540269



APOSTILA DE ATIVIDADES

DE 29 DE JUNHO A 10 DE JULHO DE 2020

TURMA: 2º ANO VESPERTINO E MATUTINO

PROFESSORA: MAIARA SCHNEIDER E DENISE ALBERT



MUNICÍPIO DE SÃO BERNARDINO

Secretaria de Educação, Cultura e Esportes

Núcleo Escolar Aldino Léo Scheid

nucleoaldinoleoscheidsaobernardino@gmail.com (49) 36540269



LETRA C

LETRA C

WENIDARC CINTRA

VEJA A LETRA **C**

ELA PODE ENGANAR VOCÊ!

CASA, COPO, CUECA


CAVALO, CAFÉ E PETECA.



AGORA LEIA ESTES NOMES
QUE VOU ESCREVER:

5

CERCA, CINCO, CENOURA,
CESTA, CIDADE E CINEMA.
DEU PARA PERCEBER?



➔ VAMOS DESENHAR OS NOMES E PRESTAR ATENÇÃO
PARA NÃO ERRAR?

CASA

CORAÇÃO

CANETA

CUECA

CABEÇA

COLAR

COBRA

CORDA



MUNICÍPIO DE SÃO BERNARDINO

Secretaria de Educação, Cultura e Esportes

Núcleo Escolar Aldino Léo Scheid

nucleoaldinoleoscheidsaobernardino@gmail.com (49) 36540269




POEMA - LETRA C

A CENOURINHA

ADRIANA FELISBINO

**COITADA DA CENOURA,
CORTOU-SE COM A SERRA.
ACABOU INDO PRA SALMOURA
E ATÉ CORREU PRA TERRA.**

**NO CASTELO DA COTIA
TODO MUNDO SE ESPANTOU
DA CENOURA SER CORTADA
E NEM ASSIM ELA CHOROU.**



**- CORRE, CENOURA, VÁ SE LAVAR!
COMENTOU DONA CORUJA.
- DESSE JEITO VOCÊ VAI FICAR
COM A CABEÇA TODA SUJA!**



MUNICÍPIO DE SÃO BERNARDINO

Secretaria de Educação, Cultura e Esportes

Núcleo Escolar Aldino Léo Scheid

nucleoaldinoleoscheidsaobernardino@gmail.com (49) 36540269




PEÇA AJUDA AO PAPAI OU À MAMÃE E LEIA ESTA PARLENDIA.
DEPOIS FAÇA UM DESENHO PARA ILUSTRÁ-LA:

**A CASINHA DA VOVÓ,
CERCADINHA DE CIPÓ.
O CAFÉ TÁ DEMORANDO,
COM CERTEZA NÃO TEM PÓ.**

AGORA, CIRCULE DE VERDE TODAS AS LETRAS **C** QUE VOCÊ
ENCONTROU.

QUANTAS LETRAS **C** VOCÊ ENCONTROU?

COLORIR APENAS OS DESENHOS CUJOS NOMES COMEÇAM COM AS
LETRAS **B** E **C**.



DESENHE **4** ELEMENTOS EM CADA CAIXA:



MUNICÍPIO DE SÃO BERNARDINO

Secretaria de Educação, Cultura e Esportes

Núcleo Escolar Aldino Léo Scheid

nucleoaldinoleoscheidsaobernardino@gmail.com (49) 36540269



FORME FRASES C





MUNICÍPIO DE SÃO BERNARDINO

Secretaria de Educação, Cultura e Esportes

Núcleo Escolar Aldino Léo Scheid

nucleoaldinoleoscheidsaobernardino@gmail.com (49) 36540269



NÚMEROS ORDINAIS

PARA INDICAR ORDEM, POSIÇÃO OU LUGAR, UTILIZAMOS OS NÚMEROS ORDINAIS.

OS NÚMEROS ORDINAIS ATÉ O 10º SÃO:



INDIQUE COM O NUMERAL ORDINAL A POSIÇÃO QUE CADA DESENHO SE ENCONTRA NA SEQUÊNCIA.



AGORA COMPLETE.

A) A ESTRELA É O _____ ELEMENTO DA SEQUÊNCIA.

B) O PINGUIM É _____ ELEMENTO DA SEQUÊNCIA.

C) A _____ É O 4º ELEMENTO DA SEQUÊNCIA.

D) O 5º ELEMENTO DA SEQUÊNCIA É A _____.

E) A OVELHA É O _____ ELEMENTO DA SEQUÊNCIA.



MUNICÍPIO DE SÃO BERNARDINO

Secretaria de Educação, Cultura e Esportes

Núcleo Escolar Aldino Léo Scheid

nucleoaldinoleoscheidsaobernardino@gmail.com (49) 36540269



Observe o trenzinho.



Pinte de vermelho o 1º vagão.

Pinte de azul o 4º vagão.

Qual é o último vagão? _____

Junto com a professora complete com o número ordinal.
Observando o quadro.

1º	2º	3º	4º	5º	6º	7º	8º	9º	10º

O 4º é o sorvete

O _____ é o pião

O _____ é o sol

O _____ é o balão

O _____ é o sapato

O _____ é o carro

O _____ é a bola



MUNICÍPIO DE SÃO BERNARDINO

Secretaria de Educação, Cultura e Esportes
Núcleo Escolar Aldino Léo Scheid
nucleoaldinoleoscheidsaobernardino@gmail.com (49) 36540269



1) SE VOCÊ MORA EM UM APARTAMENTO NO NONO ANDAR E SUA MÃE MORA CINCO ANDARES ACIMA, EM QUAL ANDAR ELA MORA?

ESCREVA A RESPOSTA COM ALGARISMOS E POR EXTENSO.

R.: _____

2) UM PASSAGEIRO ENTROU NO SEXTO VAGÃO DE UM TREM. QUAL É O VAGÃO DA FRENTE E O DE TRAZ DESTE EM QUE O PASSAGEIRO ESTÁ?

R.: _____

3) PENSANDO NOS MESES DO ANO, DIGA QUAL A POSIÇÃO ORDINAL DOS MESES JANEIRO, MAIO, SETEMBRO E DEZEMBRO.

R.: _____

4) REPRESENTA OS NÚMEROS ORDINAIS COM ALGARISMOS:

A- QUARTO: _____

B) NONO: _____

C) DÉCIMO: _____

D) QUINTO: _____

5) QUAL É A 18ª LETRA DO ALFABETO?

6) QUAL É O 5º MÊS DO ANO?

7) QUAL É O SEGUNDO DIA DA SEMANA?

8) QUAL É A TERCEIRA LETRA DO SEU NOME?



MUNICÍPIO DE SÃO BERNARDINO


Secretaria de Educação, Cultura e Esportes

Núcleo Escolar Aldino Léo Scheid

nucleoaldinoleoscheidsaobernardino@gmail.com (49) 36540269



OBSERVE A IMAGEM E RESPONDA:



- QUAL FOI O PRIMEIRO ANIMAL A ENTRAR NO ZOOLÓGICO? _____
- QUE ANIMAL ESTÁ ENTRE O JACARÉ E O ELEFANTE? _____
- QUAL FOI O ÚLTIMO ANIMAL A DESCER DO CAMINHÃO? _____
- QUAL A POSIÇÃO DO ELEFANTE? _____

ESCREVA O NOME DO ANIMAL AO LADO DA POSIÇÃO QUE ELE ESTÁ OCUPANDO:

- 1º. LUGAR: _____
- 2º. LUGAR: _____
- 3º. LUGAR: _____
- 4º. LUGAR: _____
- 5º. LUGAR: _____



MUNICÍPIO DE SÃO BERNARDINO

Secretaria de Educação, Cultura e Esportes

Núcleo Escolar Aldino Léo Scheid

nucleoaldinoleoscheidsaobernardino@gmail.com (49) 36540269



As Estações do Ano

Nascem os frutos,
Não é frio, nem quente,
no agradável Outono,
Eu fico contente.



Faz tanto frio.
Ao Inverno chegar,
Não nado, não brinco,
Não vou passear.



Chegou a Primavera,
A estação das flores.
Há pássaros, borboletas
De todas as cores.



Com muita chuva,
Chegou o Verão.
Calor forte e sol
Faz nesta estação.







Apenas três meses
Dura cada estação,
E todas elas trazem
Alegria no coração.



Filomena Maria da Silva. - Estado de Minas, 22/07/1995.

- ♦ Circule, no poema, com lápis de cor os nomes das estações do ano.
- ♦ Escreva o nome da estação que nos lembra cada cena abaixo:



MUNICÍPIO DE SÃO BERNARDINO

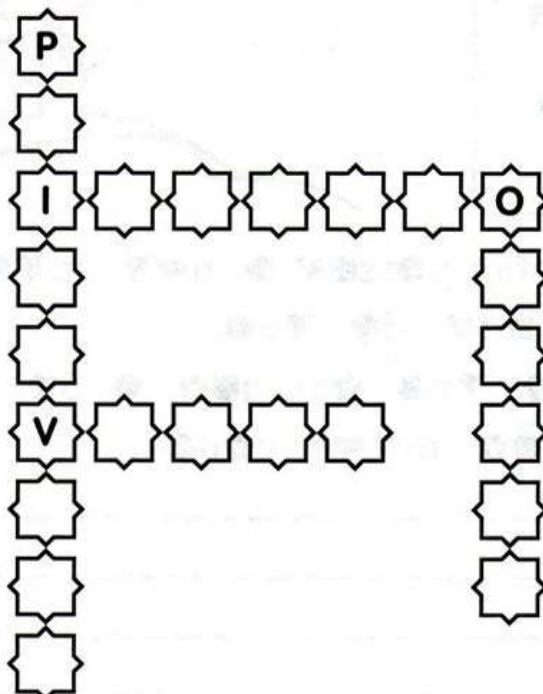
Secretaria de Educação, Cultura e Esportes

Núcleo Escolar Aldino Léo Scheid

nucleoaldinoleoscheidsaobernardino@gmail.com (49) 36540269



✎ Escreva as letras que faltam e descubra as quatro estações do ano.



✎ Relacione a 2ª coluna de acordo com 1ª, conforme os meses em que ocorrem as estações do ano.

- | | |
|-------------|-----------------------------|
| ① Primavera | () De março a junho. |
| ② Verão | () De setembro a dezembro. |
| ③ Outono | () De junho a setembro. |
| ④ Inverno | () De dezembro a março. |



A inclinação da Terra dá origem às estações do ano.



MUNICÍPIO DE SÃO BERNARDINO

Secretaria de Educação, Cultura e Esportes

Núcleo Escolar Aldino Léo Scheid

nucleoaldinoleoscheidsaobernardino@gmail.com (49) 36540269

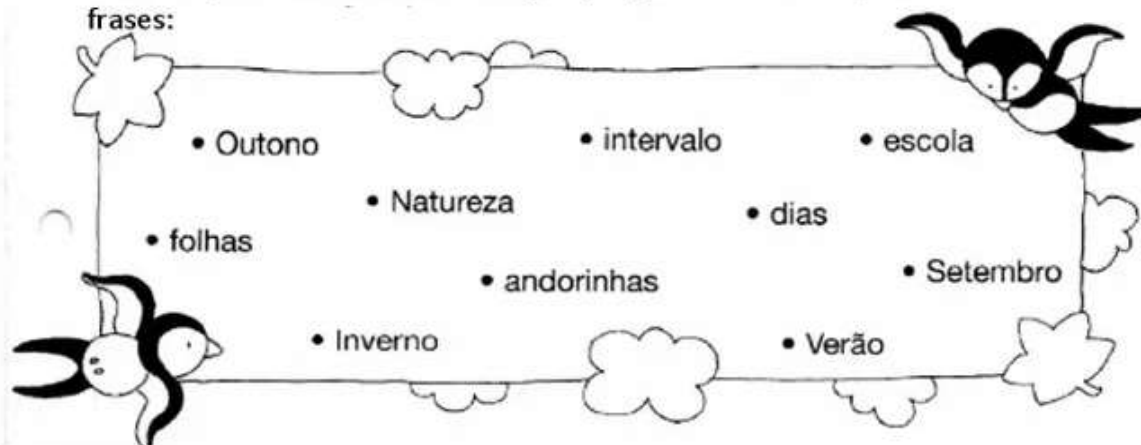


ESTAÇÕES DO ANO

Observe os desenhos e de acordo com o vestuário, marque uma estação do ano:



Leia as palavras e circule as estações, depois escolha três palavras e forme frases:



1

2

3



MUNICÍPIO DE SÃO BERNARDINO

Secretaria de Educação, Cultura e Esportes

Núcleo Escolar Aldino Léo Scheid

nucleoaldinoleoscheidsaobernardino@gmail.com (49) 36540269




Religião:

A IMPORTÂNCIA DO AMOR

O Amor é o sentimento mais bonito que o ser humano possui. É com amor que devemos fazer tudo: trabalhar, estudar e brincar. Devemos amar principalmente as pessoas de nossa família e amigos.

Devemos tratar com amor todos os animais, respeitando cada um e o seu direito de um lugar no mundo.



✎ **ESCREVA UMA FRASE PARA UMA PESSOA QUE VOCÊ AMA.**



MUNICÍPIO DE SÃO BERNARDINO

Secretaria de Educação, Cultura e Esportes

Núcleo Escolar Aldino Léo Scheid

nucleoaldinoleoscheidsaobernardino@gmail.com (49) 36540269



ESCOLA _____

PROFESSOR(A): _____ ANO: _____ DATA: ____/____/____

ALUNO(A): _____

AVALIAÇÃO DE LÍNGUA PORTUGUESA

HABILIDADE: Ler e localizar informações explícitas em diferentes tipos de textos.

Texto 1

Juca das rosas

Juca mora na favela. Ele é filho da lavadeira Eulália e está sempre atrás da mãe.

Juntos eles sobem o morro para levar a roupa suja para lavar. Juntos eles descem o morro e vão levar a roupa limpa na casa da patroa.

Juca acha a mãe a pessoa mais bonita e mais forte do mundo.

Ele queria dar uma porção de rosas para a mãe, porque hoje é aniversário dela.

Se existisse máquina de tirar retrato de pensamento, em cima da trouxa que Juca leva na cabeça, apareceria uma rosa.

Lúcia Miners. Editora Ática

Responda:

1. Em que lugar Juca mora?

2. De quem ele é filho?

3. O que Juca faz com a mãe?

4. O que Juca acha da mãe dele?

5. Por que Juca queria dar rosas para a mãe dele?

Texto 2

O trenzinho do Nicolau

Um dia o Nicolau foi espiar a velha estação. Ai que tristeza no coração!

O velho trenzinho, seu companheiro, ia ser vendido pro ferro velho e Nicolau resolveu comprar o trenzinho e nunca mais ficou sozinho.

A criançada vive brincando no seu quintal.

O dia inteiro se ouve:

— Posso brincar no seu trenzinho, Nicolau?

E, de tardinha, de brincadeira, só pra lembrar os velhos tempos, Nicolau acende a caldeira e apita:

Piuuuuuuuuu ...

E, na caldeira, meio amassada, ele faz pipocas pra criançada.

Ruth Rocha. O Trenzinho do Nicolau. Editora Ática, SP.

6. Qual é o título da história?

R - _____

7. O que ia acontecer com o trenzinho do Nicolau?

R - _____

8. O que Nicolau resolveu fazer com o trenzinho?

R - _____

9. Onde Nicolau fazia pipocas para a criançada?

R - _____

10. Numere, na ordem dos acontecimentos:

() A criançada vivia brincando no seu quintal..

() O trenzinho ia ser vendido para o ferro velho.

() Nicolau fazia pipocas para a criançada.

() Nicolau comprou o trenzinho e nunca mais ficou sozinho.

<http://varaldeatividades.blogspot.com.br>



MUNICÍPIO DE SÃO BERNARDINO

Secretaria de Educação, Cultura e Esportes

Núcleo Escolar Aldino Léo Scheid

nucleoaldinoleoscheidsaobernardino@gmail.com (49) 36540269



ALUNO: _____

DATA: _____

AVALIAÇÃO DE CIÊNCIAS

Seres vivos e seres não vivos

1. Pinte os quadrinhos de acordo com a legenda.

Azul seres vivos

Vermelho seres não vivos

☐

casa

☐

cavalo

☐

pedra

☐

baleia

☐

mulher

☐

cachorro

☐

caderno

☐

televisão

☐

plantas

☐

rosa

☐

formiga

☐

carro

2. Desenhe ou cole uma gravura de um ser:

Vivo

Não vivo



MUNICÍPIO DE SÃO BERNARDINO

Secretaria de Educação, Cultura e Esportes

Núcleo Escolar Aldino Léo Scheid

nucleoaldinoleoscheidsaobernardino@gmail.com (49) 36540269



ALUNO: _____

DATA: _____

AVALIAÇÃO DE MATEMÁTICA

1) ESCREVA O NOME DOS NUMERAIS:

21 _____

18 _____

12 _____

25 _____

30 _____

2) RESOLVA AS OPERAÇÕES COMEÇANDO SEMPRE PELA UNIDADES.

$$\begin{array}{r} 63 \\ + 24 \\ \hline \end{array}$$

$$\begin{array}{r} 42 \\ + 50 \\ \hline \end{array}$$

$$\begin{array}{r} 15 \\ + 63 \\ \hline \end{array}$$

$$\begin{array}{r} 71 \\ + 6 \\ \hline \end{array}$$

$$\begin{array}{r} 45 \\ + 32 \\ \hline \end{array}$$

$$\begin{array}{r} 86 \\ + 12 \\ \hline \end{array}$$

$$\begin{array}{r} 16 \\ + 52 \\ \hline \end{array}$$

$$\begin{array}{r} 45 \\ + 34 \\ \hline \end{array}$$

$$\begin{array}{r} 50 \\ + 19 \\ \hline \end{array}$$

$$\begin{array}{r} 61 \\ + 17 \\ \hline \end{array}$$

$$\begin{array}{r} 25 \\ - 6 \\ \hline \end{array}$$

$$\begin{array}{r} 51 \\ - 14 \\ \hline \end{array}$$

$$\begin{array}{r} 86 \\ - 50 \\ \hline \end{array}$$

$$\begin{array}{r} 23 \\ - 9 \\ \hline \end{array}$$

$$\begin{array}{r} 94 \\ - 94 \\ \hline \end{array}$$

$$\begin{array}{r} 67 \\ - 25 \\ \hline \end{array}$$

$$\begin{array}{r} 88 \\ - 19 \\ \hline \end{array}$$

$$\begin{array}{r} 91 \\ - 37 \\ \hline \end{array}$$

$$\begin{array}{r} 10 \\ - 2 \\ \hline \end{array}$$

$$\begin{array}{r} 39 \\ - 30 \\ \hline \end{array}$$