



MUNICÍPIO DE SÃO BERNARDINO

Secretaria de Educação, Cultura e Esportes

Núcleo Escolar Aldino Léo Scheid

nucleoaldinoleoscheidsaobernardino@gmail.com (49) 36540269



APOSTILA 1º ANO

DIA 15 A 26 DE JUNHO

PROFESSORAS: SILMARA W. MOTTER

SILVETE D. NEGRI

ALUNO(A)-----

NOME: _____

DATA: ____/____/____



LENDO EU APRENDO

TRABALHANDO A LETRA R

O RATO

O RATO RINALDO MORA NA RUA DE DONA RUTE. ELE DORME NA REDE.

DONA RUTE VENDE RABANETES NA BARRACA.

UM DIA O RATO RINALDO ROEU OS RABANETES DE DONA RUTE.

DONA RUTE PEGOU O RODO E SAIU CORRENDO ATRÁS DO RATO.

O RATO FALOU:

_ ÊTA, DONA RUTE ARRETADA!

ISABEL CRISTINA S. SOARES



2 - CIRCULE AS PALAVRAS INICIADAS COM R.

3 - COMPLETE.

A) OS PERSONAGENS DO TEXTO SÃO:



B) O PERSONAGEM PRINCIPAL É:



4 - O QUE DONA RUTE PEGOU PARA CORRER ATRÁS DO RATO?



5- DESENHE:

RATO	RODO
REDE	RABANETE

AUTODITADO

R



LINGUAGEM



CRUZADINHA



A crossword puzzle grid with various illustrations placed on the grid cells. The grid is composed of white squares for letters and empty spaces. The illustrations include a wheel, a rat, a boombox, a road, a robot, a king, a hammock, a baby with blocks, and a man thinking.

- | | |
|-------|------|
| RATO | RISO |
| RÁDIO | ROBÔ |
| REDE | RODA |
| REI | RUA |
| RICO | |

FORME FRASES (R)



x



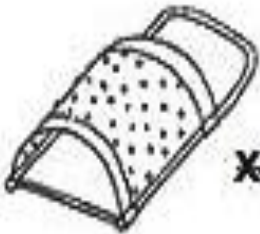
x



x



x



x



x

RUA

RUA É UM ESPAÇO URBANO QUE PERMITE A CIRCULAÇÃO DE PESSOAS, VEÍCULOS, DA ACESSO AS MORADIAS E COMÉRCIOS.

A RUA EM QUE MORO

1. DESENHE, COMO SOUBER, O TRECHO DA RUA EM QUE ESTÁ SITUADA A SUA CASA.



2. COM A AJUDA DE UM ADULTO, ANOTE O SEU ENDEREÇO.

RUA _____

_____ Nº _____ APTO. _____


BAIRRO _____ CIDADE _____

ESTADO _____ CEP _____

3. O QUE HÁ AO LONGO DE SUA RUA?

<input type="checkbox"/> ÁRVORE	<input type="checkbox"/> ORELHÃO	<input type="checkbox"/> CAIXA DE CORREIO
<input type="checkbox"/> COMÉRCIO	<input type="checkbox"/> ESCOLA	<input type="checkbox"/> INDÚSTRIA
<input type="checkbox"/> IGREJA	<input type="checkbox"/> EDIFÍCIO	<input type="checkbox"/> PONTO DE ÔNIBUS

PINTE O QUADRINHO QUE INFORMA O QUE HÁ DE ERRADO NA CENA.



A CRIANÇA ESTÁ ATRAVESSANDO A RUA NA FAIXA DE PEDESTRE.

A CRIANÇA NÃO ESTÁ ATRAVESSANDO A RUA NA FAIXA DE PEDESTRE.

O CARRO ESTÁ PARADO EM CIMA DA FAIXA DE PEDESTRE.

O SEMÁFORO ESTÁ ABERTO PARA O VEÍCULO.



1



11



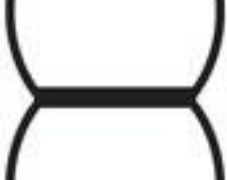
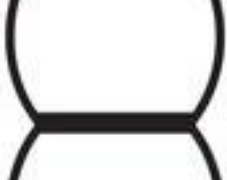
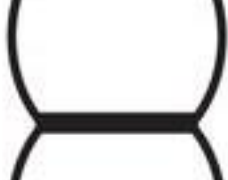
21



31



41



10

20

30

40

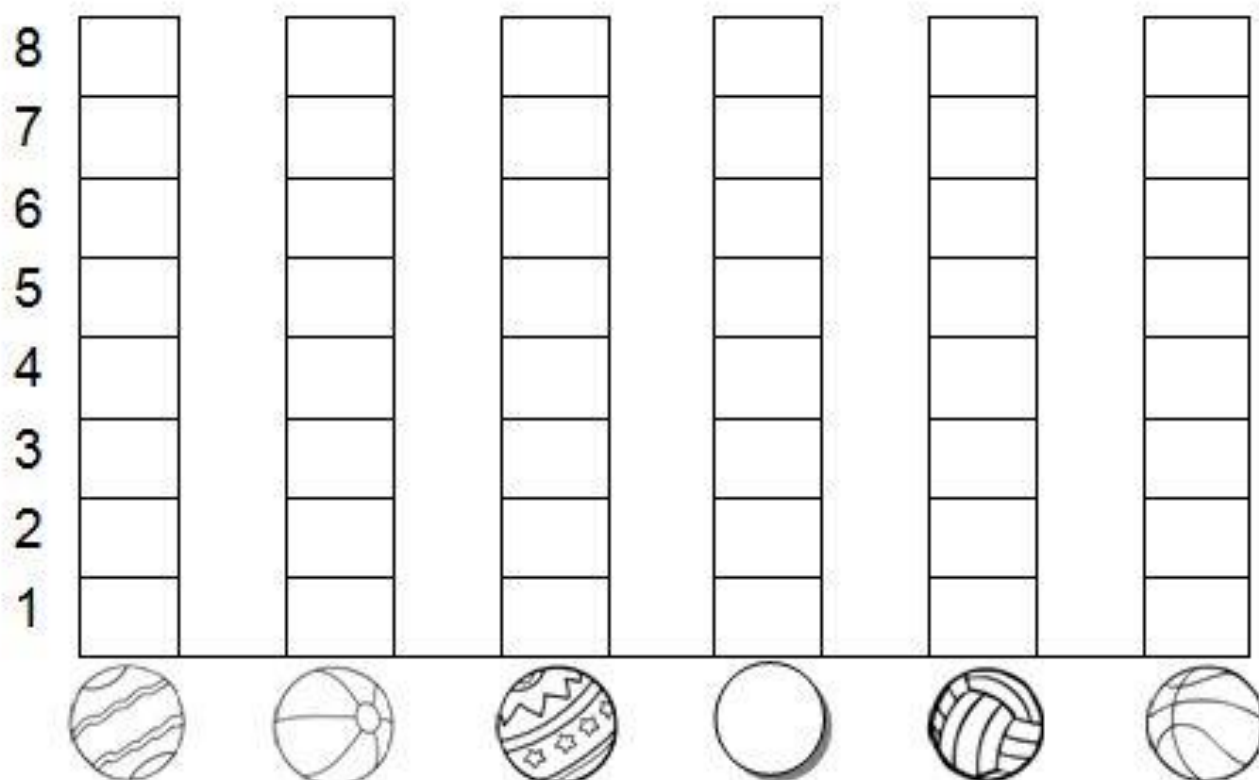
50

BRINCADEIRA: ACERTE A BOLA NA CESTA

- DESCUBRA QUANTAS BOLAS, CADA CRIANÇA ACERTOU NA CESTA:

CRIANÇAS	QUANTIDADE DE BOLAS NA CESTA	NÚMERO
CARLOS		
FELIPE		
PEDRO		
GIOVANI		
VÍTOR		
FÁBIO		

- AGORA, VOCÊ DEVERÁ COLORIR O GRÁFICO COM AS INFORMAÇÕES DA TABELA QUE VOCÊ ACABOU DE COMPLETAR:




NOME:

DATA: / /

PROBLEMINHAS

NUMA FAZENDA HAVIA 8 VAQUINHAS E 3 BOIS. QUANTOS ANIMAIS A FAZENDA TINHA NO TOTAL?



O AQUÁRIO DE ALICE POSSUI 5 PEIXINHOS DOURADOS E 4 PEIXES PALHAÇO. QUANTOS PEIXES NO TOTAL ALICE TEM?



PEDRO TEM 7 CARRINHOS E FÁBIO TEM 6. JUNTOS ELES TEM QUANTOS CARRINHOS?



LARA COMPROU UMA BONECA DE 9 REAIS E UMA BOLA QUE CUSTOU 5 REAIS. QUANTO ELA GASTOU?



MATEMÁTICA ADIÇÃO

$$\begin{array}{r} 24 \\ + 65 \\ \hline \end{array}$$
$$\begin{array}{r} 35 \\ + 43 \\ \hline \end{array}$$
$$\begin{array}{r} 42 \\ + 17 \\ \hline \end{array}$$
$$\begin{array}{r} 53 \\ + 23 \\ \hline \end{array}$$

$$\begin{array}{r} 64 \\ + 23 \\ \hline \end{array}$$
$$\begin{array}{r} 75 \\ + 31 \\ \hline \end{array}$$
$$\begin{array}{r} 86 \\ + 12 \\ \hline \end{array}$$
$$\begin{array}{r} 27 \\ + 10 \\ \hline \end{array}$$

$$\begin{array}{r} 38 \\ + 20 \\ \hline \end{array}$$
$$\begin{array}{r} 49 \\ + 30 \\ \hline \end{array}$$

$$\begin{array}{r} 12 \\ + 10 \\ \hline \end{array}$$
$$\begin{array}{r} 34 \\ + 23 \\ \hline \end{array}$$

