



MUNICÍPIO DE SÃO BERNARDINO

Secretaria de Educação, Cultura e Esportes
Núcleo Escolar Aldino Léo Scheid
nucleoaldinoleoscheidsaobernardino@gmail.com (49) 36540269



ALUNO: (A) _____

SÉRIE _____

DATA: ____/____/____

PROFESSORA: VERA LÚCIA LUDWIG PESAVENTO

AValiação referente à primeira semana de maio

Atividade de aula - Data: ____/____/____

As habilidades da mamãe

Gilda F. Padilla



Mamãe parece uma fada,
Tem varinha de condão...
Nossa casa é arrumada,
Com beleza e perfeição.

Que mãozinha habilidosa:
Costura, borda, cozinha...
Mamãe é sempre jeitosa,
Uma perfeita abelhinha.

O bolo que mamãe faz
É gostoso, bem fofinho,
Na sua mão cresce mais
E não sobra um pedacinho...

A maior habilidade
Que minha mãe tem no lar,
É espalhar felicidade,
Todo dia, ao despertar!

1) A poesia tem ____ versos e ____ estrofes.

2) O título da poesia é _____

3) A autora da poesia é _____

4) Pinte de cores variadas as rimas do poesia.

5) Agora, anote as rimas nos quadros:

--	--

--	--

--	--

--	--

--	--

--	--

--	--

MATEMÁTICA

❖ Decomponha os numerais como no modelo:

189 → 100 + 80 + 9 → 1 centena - 8 dezenas e 9 unidades

154 _____

295 _____

177 _____

300 _____

270 _____

315 _____

160 _____

❖ Represente os numerais no Q.P.

	Centenas	Dezenas	Unidades
260			
123			
189			
247			
384			
421			



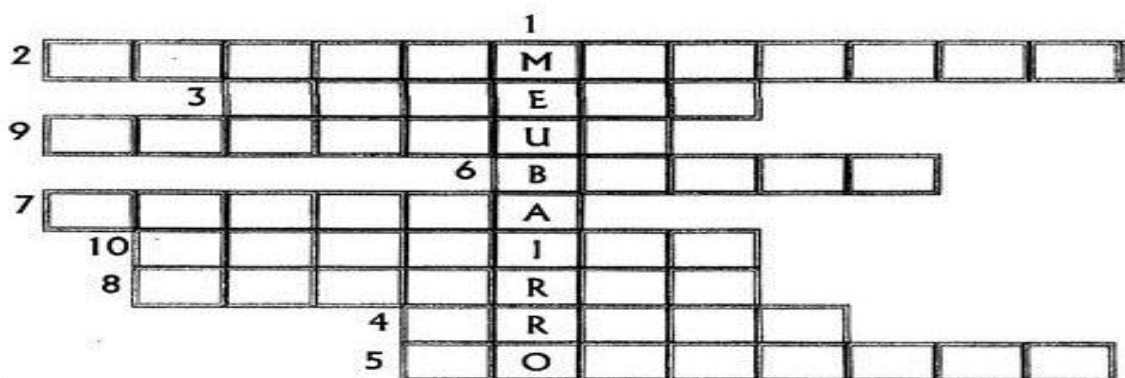
❖ Componha os numerais como no modelo:

- * 4 centenas + 5 dezenas + 3 unidades = 400 + 50 + 3 = 453
- * 2 centenas + 9 dezenas + 9 unidades = _____
- * 5 centenas + 8 dezenas + 4 unidades = _____
- * 3 centenas + 3 dezenas + 1 unidade = _____
- * 2 centenas + 7 dezenas + 7 unidades = _____
- * 3 centenas + 2 dezenas + 5 unidades = _____


ESCREVA A SEQUÊNCIA DOS NÚMEROS DE 100 A 150

GEOGRAFIA / HISTÓRIA


SIGA AS DICAS E RESPONDA ÀS PERGUNTAS PARA COMPLETAR A CRUZADINHA:



- 1 – Lugar onde moro: _____
- 2 – Onde mamãe faz compras: _____
- 3 – Onde vou orar: _____
- 4 – Onde sentamos para conversar: _____
- 5 – Aonde vou quando fico doente: _____
- 6 – Onde papai busca dinheiro: _____
- 7 – Onde vou estudar: _____
- 8 – Onde compro pães: _____
- 9 – Onde papai compra carnes: _____
- 10 - onde mamãe conserta TV: _____




NAS ÚLTIMAS AULAS DE HISTÓRIA E GEOGRAFIA ESTUDAMOS SOBRE BAIROS, QUARTEIRÕES. AGORA É SUA VEZ DESENHE NO ESPAÇO ABAIXO O QUARTEIRÃO DA ESCOLA :



CIÊNCIAS

CRISTAL É UMA GOTINHA QUE VIAJA E FAZ ACONTECER O CICLO DA ÁGUA...

AGORA ENUMERE A SEQUENCIA DO CICLO DA ÁGUA COM ATENÇÃO:



- 2** Cristal juntou-se com outras gotinhas e formou uma nuvem no céu.
- 1** Cristal subiu em forma de vapor, porque o sol aqueceu as águas do rio.
- 4** A nuvem, de tão pesada, desmanchou-se e caiu em forma de chuva.
- 3** A nuvem passou perto do Sol e ele encheu de cores o bailado das gotinhas.

QUE TAL TROCAR OS NÚMEROS PELAS SÍLABAS CORRESPONDENTES PARA DESCOBRIR ALGUMAS FORMAS DE UTILIZAÇÃO DA ÁGUA?




5+7+9+12 _____

6+2+8 _____

1+11+4+3 _____

10+16 _____ 9+13+7+14 _____

17+15 _____



1 IR	2 PE	3 CÃO	4 GA	5 HI	6 LIM
7 GI	8 ZA	9 E	10 GE	11 RI	
12 NE	13 NER	14 A	15 BER	16 RAR	17 BE

ENSINO RELIGIOSO

ESCREVA COMO VOCÊ SE SENTE COM A SITUAÇÃO QUE ESTAMOS VIVENDO, SEM PODER SAIR DE CASA, NEM VIR PARA A ESCOLA...

FAÇA COM MUITA ATENÇÃO!!!

BOA PROVA!!!!

